

राज्य शैक्षणिक संशोधन व प्रशिक्षण परिषद, महाराष्ट्र, पुणे.

सेतू अभ्यास - उत्तर चाचणी

विषय : गणित



इयत्ता - तिसरी

गुण — १५

विद्यार्थ्यांचे नाव -

प्रश्न १- चित्ररूपातील संख्या अंकांत व अक्षरांत लिही.

गुण १

दशक	एकक
	
.....

प्रश्न २- दिलेल्या संख्येच्या लगतची मागची व लगतची पुढची संख्या चौकटीत लिही. गुण १

	८१	
--	----	--

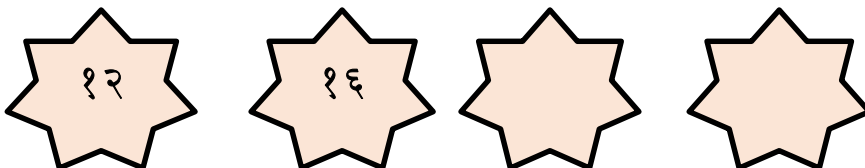
प्रश्न ३- दिलेल्या संख्या चढत्या व उतरत्या क्रमाने लिही. ५१, ९७, ७९

गुण १

चढता क्रम	
उतरता क्रम	

प्रश्न ४- टप्पा ओळख व संख्या लिही.

गुण १



प्रश्न ५- टोपलीत ३७ चिकू आणि ५५ आंबे आहेत, तर त्या टोपलीत एकूण किती फळे आहेत?

गुण १

दशक	एकक

प्रश्न ६- सविताला ७० पानांचे पुस्तक वाचायचे आहे. तिची ४४ पाने वाचून झाली आहेत, तर तिची किती पाने वाचायची राहिली आहेत?

गुण १

दशक	एकक

प्रश्न ७ - दिलेली रक्कम मिळविण्यासाठी कोणत्या नोटा व कोणती नाणी घ्यावी लागतील त्याखालील चौकटीत ✓ अशी खूण कर.

गुण १



प्रश्न ८ - तुझ्याकडील पुस्तकाची लांबी किती विती आहे, ते मोजून लिही. गुण १

.....

प्रश्न ९- सर्वात जड वस्तूला रिंगण कर.

गुण १




प्रश्न १० - दूध पिण्यासाठी तू कोणत्या भांड्याचा वापर करशील, त्या भांड्याखालील चौकटीत \checkmark अशी खूण कर. गुण १



प्रश्न ११- खालील आकृतिबंध पूर्ण कर.

गुण १



प्रश्न १२- रिकाम्या चौकटी पूर्ण कर.

गुण १



$$\square + \square + \square = \square$$

$$\square \times \square = \square$$

प्रश्न १३- एका शाळेतील मुलांची संख्या खालील तक्त्यात दाखविली आहे.

गुण ३

इयत्ता	मुलांची संख्या
पहिली	
दुसरी	
तिसरी	
चौथी	

- वरील तक्त्यावरून पुढील प्रश्नांची उत्तरे द्या.

१) कोणत्या इयत्तेत सर्वात जास्त मुले आहेत?

२) इयत्ता तिसरीत किती मुले आहेत?

३) कोणत्या दोन इयत्तेतील मुलांची संख्या समान आहे?