

तीसरी – गणित (हिंदी माध्यम)



महाराष्ट्र विद्या प्राधिकरण, पुणे ३०.

प्रगत शैक्षणिक महाराष्ट्र

शैक्षणिक प्रगति कसौटी : संकलित मूल्यमापन २ : २०१७-१८

कक्षा : तीसरी – विषय : गणित (लिखित)

विद्यार्थी का नाम : _____ उपस्थिति क्रमांक :

विद्यालय का नाम : _____ वर्ग : _____

केंद्र : _____ तहसील _____ जिला _____ दिनांक : / / २०१८

प्रश्न क्रमांक	१	२	३	४	५	प्रात्य./मौखिक	प्राप्त अंक			शिक्षक के हस्ताक्षर
प्राप्तांक							मूलभूत क्षमता	कक्षा की क्षमता	कुल	
अधिकतम अंक	६	६	६	६	६	१०			४०	

सभी प्रश्न हल करो । प्रत्येक उपप्रश्न के लिए एक अंक है ।

प्र. १ अ) अंकों में लिखो ।

बयासी =

ब) अक्षरों में लिखो ।

२१ = _____

क) विस्तारित रूप पूर्ण करो ।

२५ = + ५

ड) जोड़ो ।


दहाई	इकाई
२	५
+	
१	३

इ) घटाओ ।

दहाई	इकाई
६	७
-	
१	३

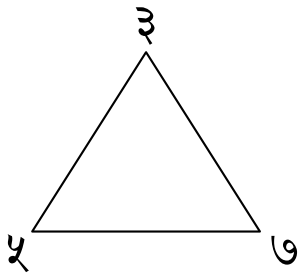
फ) मेले में जाते समय माँ ने मुझे १५ रुपये और पिता जी ने २० रुपये दिये । अब मेरे पास कुल कितने रुपये हैं ?

प्र. २ अ) आकृति में कोरों की संख्या गिनकर लिखो ।



कोरों की संख्या =

ब) दिये गए अंकों के समूहों में से प्रत्येक अंक का एक बार उपयोग कर तीन अंकों की बड़ी से बड़ी संख्या तैयार करके चौखट में लिखो ।



क) दूध मापने के प्रमाणित इकाई को गोल करो ।

मीटर लीटर ग्राम मिनट

ड) मेरे पास कुल १२५ रुपये हैं । उसमें १०० रुपये की एक नोट तथा ५ रुपये का एक सिक्का है । बाकी के १० रुपये के नोट हैं, तो १० रुपये के कितने नोट हैं?

१० रुपये के नोट

इ) जोड़ो ।

सै	द	इ
४	२	३
+		
१	७	५


फ) गुणा करो ।

$$\begin{array}{r} ६ \\ \times ४ \\ \hline \end{array}$$

प्र. ३ अ) संख्याओं का आकृतिबंध पूर्ण करो ।

१० × २	२० × २	३० × २	४० × २	
--------	--------	--------	--------	--

ब) निम्न आकृति सममित होने के लिये योग्य जगह पर रेखा खींचो ।



क) जोड़ो ।

सै	द	इ
+ ४	६	८
२	५	७

ड) घटाओ ।

सै	द	इ
- ७	१	४
३	५	८

इ) एक बाग में ४८५ आम के, १४० नीबू के और २६० इमली के पेड़ हैं, तो बाग में कुल कितने पेड़ हैं?

फ) ग्रंथालय में ४७९ कहानी की तथा ८५ कविताओं की पुस्तकें हैं, तो ग्रंथालय में कविताओं की पुस्तकों की अपेक्षा कहानी की पुस्तकें कितनी अधिक हैं ?

प्र. ४ अ) ३ दहाई \times २ दहाई = सैकड़ा

ब) गुणा करो ।

सै	द	इ
	४ \times	६ ७

क) शुभांगी का जन्म २८ अप्रैल २०१० को हुआ, तो वर्ष २०१७ में उसका कौन-सा जन्मदिन मनाया गया?

ड) भाग दो ।

$$\begin{array}{r} 4 \overline{) 30} \end{array}$$

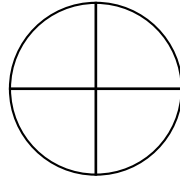
इ) दी गई दिनदर्शिका को देखो और पूछे गये प्रश्नों के उत्तर लिखो ।

अप्रैल २०१७						
रवि	सोम	मंगल	बुध	गुरु	शुक्र	शनि
३०						१
२	३	४	५	६	७	८
९	१०	११	१२	१३	१४	१५
१६	१७	१८	१९	२०	२१	२२
२३	२४	२५	२६	२७	२८	२९


पहला रविवार कौन-सी तारीख को है?

फ) ८ लड्डू रखने के लिए १ डिब्बा के अनुसार ५६ लड्डू रखने के लिए कितने डिब्बे लगेंगे?

प्र. ५ अ) दी गई आकृति का पाव भाग रँगो ।



ब) दिये गए वस्तुसमूह के आधे भाग की वस्तुओं को रँगो ।




क) नीचे की घड़ी में दिखाये गए समय को घंटे और मिनट में लिखो ।






घड़ी में बजकर मिनट हुए हैं ।

ड) ५ बजकर २० मिनट पर घड़ी की सूईयों की स्थिति कैसी होगी? उसे नीचे दी गई घड़ी में दिखाओ ।



‘इ’ व ‘फ’ के लिए सूचना : बाग में फूल के पौधों की जानकारी तालिका में नीचे दी गयी है । उस पर आधारित प्रश्नों के उत्तर खाली चौखट में लिखो ।

फूल का नाम	फूल के पौधों की संख्या
कमल	
गुलाब	
मोगरा	

इ) गुलाब के फूल के पौधों की अपेक्षा कमल के फूल के पौधों की संख्या कितनी अधिक है?

फ) बाग में फूल के कुल कितने पौधे हैं ?

