

उल्लास

प्रश्नपेढी



राज्य शैक्षणिक संशोधन व प्रशिक्षण परिषद, महाराष्ट्र, पुणे.

राज्य साक्षरता केंद्र

प्रश्नपेढी

घटक क्र. 1

1. 'अ' पासून सुरु होणारे कोणतेही तीन शब्द लिहा.

2. खालील चित्रांची नावे सांगा आणि पहिले अक्षर लिहा.



1) _____



2) _____



3) _____



4) _____



5) _____



6) _____


3. वस्तु मोजून संख्या लिहा.




1) _____



2) _____



3) _____



4) _____




5) _____

4. वस्तू व संख्या यांच्या जोड्या लावा.



10



3



5



6



8

5. वस्तु मोजून संख्या लिहा.



= _____




= _____



= _____



= _____



= _____

6. पुढची संख्या लिहा.

14	_____
----	-------

17	_____
----	-------

8	_____
---	-------

10	_____
----	-------

19	_____
----	-------

15	_____
----	-------

2	_____
---	-------

6	_____
---	-------

18	_____
----	-------

7. वजाबाकी करा.

$$\begin{array}{r} 5 \\ - 2 \\ \hline \end{array}$$

$$\begin{array}{r} 6 \\ - 1 \\ \hline \end{array}$$


$$\begin{array}{r} 8 \\ - 7 \\ \hline \end{array}$$

$$\begin{array}{r} 9 \\ - 5 \\ \hline \end{array}$$


$$\begin{array}{r} 7 \\ - 7 \\ \hline \end{array}$$

$$\begin{array}{r} 4 \\ - 2 \\ \hline \end{array}$$


8. वस्तु मोजून योग्य संख्येला गोल करा.



14	11	12
----	----	----



10	16	12
----	----	----



16	15	18
----	----	----



8	10	6
---	----	---

9. बेरीज करा.

$$\begin{array}{r} 5 \\ + \\ 2 \\ \hline \end{array}$$

$$\begin{array}{r} 3 \\ + \\ 6 \\ \hline \end{array}$$

$$\begin{array}{r} 4 \\ + \\ 4 \\ \hline \end{array}$$

$$\begin{array}{r} 6 \\ + \\ 0 \\ \hline \end{array}$$

$$\begin{array}{r} 7 \\ + \\ 1 \\ \hline \end{array}$$

$$\begin{array}{r} 2 \\ + \\ 3 \\ \hline \end{array}$$

प्रश्नपेढी

घटक क्र. 2

10. सूचनेनुसार लिहा.

1) 'मि' ने सुरु होणारा शब्द ओळखून लिहा.
दार, मिशा, इमारत, समीर

उत्तर _____

2) 'टा' ने सुरु होणारा शब्द ओळखून लिहा.
बटाटा, चिमटा, टाच, धपाटा

उत्तर _____


3) 'ई' ने सुरु होणारा शब्द ओळखून लिहा.
नवीन, ताई, चटई, ईडलिंबू

उत्तर _____

4) 'पी' ने सुरु होणारा शब्द ओळखून लिहा.
पाणी, पिपाणी, पपिता, पीठ

उत्तर _____

11. चित्र पहा व नाव लिहा.



12. चित्र आणि शब्दांच्या जोड्या जुळवा.



1) संगणक



2) टेलिफोन



3) पत्रपेटी



4) टेलिव्हिजन

प्रश्नपेढी

घटक क्र. 3

13. चांगल्या आरोग्यासाठी काय खावे ते लिहा.



दोन फळांची नावे - 1) _____
2) _____



दोन भाज्यांची नावे - 1) _____
2) _____



दोन कडधान्यांची नावे - 1) _____
2) _____

14. दिलेल्या चित्रांसाठी शब्द लिहा.



15. चित्रावरून दिलेले शब्द मोठ्याने वाचा व त्यांना योग्य मात्रा लावा.



ढ_ लकी



र_ पटे



क_ कर



म_ र



गुल_ ब



क_ क

16. झाडांच्या विविध भागांना नावे द्या.



17. खाण्याच्या पदार्थांची नावे ओळखून त्यांना वर्तुळ (गोल) करा.

- | | | | |
|---------|-------|------|------|
| 1) चरखा | तवा | उपमा | चमचा |
| 2) भात | ग्लास | वाटी | कढई |
| 3) पाणी | लाटणे | पोळी | कणिक |
| 4) शिरा | पाट | माठ | चटई |

18. शब्द पहा व आवाज ओळखून गोल करा.

1) 'कि' ने सुरु होणारा शब्द ओळखून लिहा.
सागर, किमया, रवी

उत्तर _____

2) 'यो' ने सुरु होणारा शब्द ओळखून लिहा.
मान, कोपरा, योगेश

उत्तर _____

3) 'दौ' ने सुरु होणारा शब्द ओळखून लिहा.
दार, दौलत, दोडके

उत्तर _____

19. पुढील उदाहरणे सोडवा.

$$21 + 18 = \underline{\hspace{2cm}}$$

$$15 + 23 = \underline{\hspace{2cm}}$$

$$24 + 20 = \underline{\hspace{2cm}}$$

$$25 + 23 = \underline{\hspace{2cm}}$$

$$15 + 22 = \underline{\hspace{2cm}}$$

$$47 - 15 = \underline{\hspace{2cm}}$$

$$18 - 7 = \underline{\hspace{2cm}}$$

$$44 - 22 = \underline{\hspace{2cm}}$$

$$28 - 16 = \underline{\hspace{2cm}}$$

$$50 - 30 = \underline{\hspace{2cm}}$$

20. एकूण किती रुपये होतील ते लिहा.

₹ _____
₹ _____
₹ _____
₹ _____

प्रश्नपेढी

घटक क्र. 4

21. खाली दिलेल्या शब्दांत समाविष्ट अक्षरे ओळखून, दिलेल्या अक्षराखाली योग्य शब्द लिहा.

(बटाटा, थोडे, थंड, भाऊ, वारा, भाकर, थडगे, सराटा नळ, सावित्री, रथ, वरात, बाळ, ट्रक)

स	ट	थ	ळ	व	भ

22. खाली दिलेल्या प्रत्येक शब्दातील पहिले अक्षर ओळखून, तक्त्यात योग्य ठिकाणी लिहा.

(वन, लोक, टमटम, भाला, टाकी, वारा, मासे, थैली, लाकडे, मोर, सर्व, भात)

स	ट	म	थ	ल	व	भ

23. मधली संख्या लिहा.

1) 42 _____ 44

2) 83 _____ 85

3) 98 _____ 100

4) 37 _____ 39

5) 59 _____ 61

6) 71 _____ 73

7) 29 _____ 31

8) 67 _____ 69

24. आधीची संख्या लिहा.

_____	84
-------	----

_____	35
-------	----

_____	76
-------	----

_____	93
-------	----

_____	60
-------	----

_____	51
-------	----

_____	46
-------	----

_____	97
-------	----

_____	70
-------	----

25. रिकाम्या जागी योग्य संख्या लिहा.

11	—	—	14	15	—	—	18	—	20
----	---	---	----	----	---	---	----	---	----

35	—	—	38	—	—	41	42	—	44
----	---	---	----	---	---	----	----	---	----

47	—	49	50	—	—	53	—	—	56
----	---	----	----	---	---	----	---	---	----

61	62	—	—	65	—	—	68	—	—
----	----	---	---	----	---	---	----	---	---

84	—	—	87	—	—	90	—	—	93
----	---	---	----	---	---	----	---	---	----

प्रश्नपेढी

घटक क्र. 5

26. पुढील जोडाक्षर व तेच जोडाक्षर असलेला शब्द यांच्या जोड्या जुळवा.

- | | |
|----------|------------|
| 1) स्त | अ) सत्त्व |
| 2) स्क | आ) मस्त |
| 3) ष्ण | इ) दुष्काळ |
| 4) क्त | ई) उष्णता |
| 5) ष्का | उ) भास्कर |
| 6) त्त्व | ऊ) रक्त |

27. खाली दिलेल्या शब्दांमधील जोडाक्षर ओळखून, तेच जोडाक्षर असलेला दुसरा शब्द लिहा.

पत्ता ⇒ त्ता ⇒ सत्ता, मत्ता

इच्छा ⇒ _____ ⇒ _____

पट्टी ⇒ _____ ⇒ _____

त्याला ⇒ _____ ⇒ _____

28. चित्रांचा अंदाज घ्या आणि शब्द लिहून पूर्ण करा.

1) बटा _____



2) पुस्त _____



3) _____ स



4) _____ कर



5) चें _____



6) _____ बा



7) _____ चंद



29. वाचा आणि प्रश्नांची उत्तरे द्या.

सुमन : आई, मला भूक लागली आहे.

आई : जेवण तयार आहे. लवकर तोंड, हातपाय आणि चेहरा धुऊन घे.

सुमन : आज जेवायला काय बनवले आहे ?

आई : तुझ्या आवडीचे, छोले, पुरी आणि शिरा.

सुमन : अरे वा ! आज मेजवानी आहे.

1) कोणाला भूक लागली आहे ?

2) आईने जेवायला काय बनवले आहे ?

3) आईने सुमनला हात, पाय आणि तोंड धुण्यास का सांगितले ?

4) तुम्हांला खायला काय - काय आवडते ?

30. रिकाम्या जागा भरा.

1) $4 + 4 + 4 = 3 \times \underline{\quad} = \underline{\quad}$

2) $2 + 2 + 2 + 2 + 2 = 5 \times \underline{\quad} = \underline{\quad}$

3) $6 + 6 + 6 + 6 = \underline{\quad} \times 6 = \underline{\quad}$

4) $7 + 7 + 7 + 7 + 7 = \underline{\quad} \times 7 = \underline{\quad}$

5) $10 + 10 + 10 + 10 + 10 + 10 = \underline{\quad} \times 10 = \underline{\quad}$

31. पुढील गुणाकार करा.

1) $7 \times 3 = \underline{\quad}$

1) $5 \times 6 = \underline{\quad}$

1) $15 \times 5 = \underline{\quad}$

1) $20 \times 4 = \underline{\quad}$

1) $3 \times 100 = \underline{\quad}$

1) $6 \times 100 = \underline{\quad}$

1) $8 \times 100 = \underline{\quad}$

1) $10 \times 100 = \underline{\quad}$

प्रश्नपेढी

घटक क्र. 6

32. मतदानाच्या संबंधित सूचना वाचा व ँका शब्दात उत्तर द्या.

रामनाथ	220 मते
दिनकर	170 मते
लता	122 मते
झालेले ँकूण मतदान = 512	

1. सर्वात जास्त मते कोणाला मिळाली ? _____
2. सर्वात कमी मते कोणाला मिळाली ? _____
3. निवडणुकीत ँकूण किती मतदार आहेत ? _____
4. ँकूण किती मतदान झाले ? _____
5. रामनाथला दिनकरपेक्षा किती मते जास्त मिळाली ? _____

33. मतदानासंबंधी तुम्हांला माहीत असलेले शब्द लिहा.

34. रूपांतर करा.

1) 10 मिलीमीटर = _____ से.मी.

2) 20 मिलीमीटर = _____ से.मी.

3) 3 सेंटीमीटर = _____ मि.मी.

4) 6 सेंटीमीटर = _____ मि.मी.

5) 9 सेंटीमीटर = _____ मि.मी.

35. रूपांतर करा.

1) 1 मी. = _____ से.मी.

2) 8 मी. = _____ से.मी.

3) 5 मी = _____ से.मी.

4) 700 से.मी. = _____ मीटर

5) 940 से.मी. = _____ मी. _____ से.मी.

6) 650 से.मी. = _____ मी. _____ से.मी.

7) 465 से.मी. = _____ मी. _____ से.मी.

36. रूपांतर करा.

1) 1 कि.मी. = _____ मीटर

2) 6 कि.मी. = _____ मीटर

3) 7 कि.मी. = _____ मीटर

4) 9 कि.मी. = _____ मीटर

5) 3000 मी. = _____ कि. मी.

6) 2500 मी. = _____ कि. मी. _____ मी.

7) 3250 मी. = _____ कि. मी. _____ मी.

37. गुणाकार करा.

1. आजोबा रोज सकाळी 500 मीटर चालतात. तर 4 दिवसात ते किती किलोमीटर चालतील ?

2. एका साडीची लांबी 6 मीटर आहे. तर अशा 5 साड्यांची एकूण लांबी किती ?

38. पुढील संख्यांची बेरीज करा.

$$\begin{array}{r} 75 \text{ मीटर} \\ + 34 \text{ मीटर} \\ \hline \text{मीटर} \end{array}$$

$$\begin{array}{r} 57 \text{ मीटर} \\ + 42 \text{ मीटर} \\ \hline \text{मीटर} \end{array}$$

$$\begin{array}{r} 67 \text{ मीटर} \\ + 22 \text{ मीटर} \\ \hline \text{मीटर} \end{array}$$

$$\begin{array}{r} 42 \text{ मीटर} \\ + 26 \text{ मीटर} \\ \hline \text{मीटर} \end{array}$$

39. मोजा व लिहा.

1) तुम्ही ज्या खोलीत बसला आहात, त्या खोलीचा दरवाजा वितीने मोजा.

2) ज्या खोलीत तुम्ही आहात, त्या खोलीची लांबी पावलाने मोजा.

3) तुमच्या मित्राची / मैत्रिणीची उंची वितीने मोजा व लिहा.

4) तुमची उंची सेंटीमीटर मध्ये मोजा आणि लिहा.

प्रश्नपेढी

घटक क्र. 7

40. खालील शब्द मोठ्याने वाचा आणि ज्या शब्दांमध्ये 'श्र' चा उच्चार होतो त्या शब्दांना गोल करा.

आश्रम	श्रावण
परिणाम	पौर्णिमा
शाळा	श्रीमंती
प्राणी	ऋषी
श्रमिक	ज्ञानी
ऋण	श्रोता
श्रद्धा	भिक्षा

41. दिलेले शब्द वापरून वाक्य बनवा.

बाण _____

पौर्णिमा _____

प्राणी _____

मोजणी _____

परिणाम _____

42. रूपांतर करा.

1) 4 किलोग्रॅम = _____ ग्रॅम

2) 7 किलोग्रॅम = _____ ग्रॅम

3) 9 किलोग्रॅम = _____ ग्रॅम

4) 2000 ग्रॅम = _____ किलोग्रॅम

5) 5000 ग्रॅम = _____ किलोग्रॅम

6) 8000 ग्रॅम = _____ किलोग्रॅम

43. रमाने बाजारातून घेतलेल्या भाज्यांचा हिशोब करा व तिने एकूण किती रुपयांची भाजी घेतली ते सांगा ?

अ.क्र.	भाजी	प्रति कि.ग्रॅ. दर	किती कि.ग्रॅ. घेतली	किंमत
1	फुलकोबी	₹ 30	4 किलोग्रॅम	₹ _____
2	पालक	₹ 20	3 किलोग्रॅम	₹ _____
2	गाजर	₹ 40	2 किलोग्रॅम	₹ _____
4	वाटाणा	₹ 50	1 किलोग्रॅम	₹ _____
एकूण रुपये				₹ _____

44 अ. पुढील संख्यांची बेरीज करा.

$$\begin{array}{r} 38 \text{ कि.ग्रॅ} \\ + 48 \text{ कि.ग्रॅ} \\ \hline \text{कि.ग्रॅ} \end{array}$$

$$\begin{array}{r} 62 \text{ कि.ग्रॅ} \\ + 26 \text{ कि.ग्रॅ} \\ \hline \text{कि.ग्रॅ} \end{array}$$

$$\begin{array}{r} 18 \text{ कि.ग्रॅ} \\ + 65 \text{ कि.ग्रॅ} \\ \hline \text{कि.ग्रॅ} \end{array}$$

$$\begin{array}{r} 59 \text{ कि.ग्रॅ} \\ + 66 \text{ कि.ग्रॅ} \\ \hline \text{कि.ग्रॅ} \end{array}$$

44 ब. पुढील संख्यांची वजाबाकी करा.

$$\begin{array}{r} 57 \text{ कि.ग्रॅ} \\ - 35 \text{ कि.ग्रॅ} \\ \hline \text{कि.ग्रॅ} \end{array}$$

$$\begin{array}{r} 66 \text{ कि.ग्रॅ} \\ - 42 \text{ कि.ग्रॅ} \\ \hline \text{कि.ग्रॅ} \end{array}$$

$$\begin{array}{r} 72 \text{ कि.ग्रॅ} \\ - 50 \text{ कि.ग्रॅ} \\ \hline \text{कि.ग्रॅ} \end{array}$$

$$\begin{array}{r} 94 \text{ कि.ग्रॅ} \\ - 51 \text{ कि.ग्रॅ} \\ \hline \text{कि.ग्रॅ} \end{array}$$

प्रश्नपेढी

घटक क्र. 8

L.O. 13,15

45. खालील प्रश्नांची उत्तरे द्या.

1. तुम्हांला कोण कोणत्या आपत्तींबद्दल माहिती आहे ?

2. संपूर्ण जगाने नुकताच कोणत्या संसर्गजन्य आपत्तीचा सामना केला ?

3) संपूर्ण जगात जी वैश्विक महामारी झाली, त्याचा तुमच्या जीवनावर काय परिणाम झाला ?

46. योग्य वाक्यासमोर (✓) खूण करा व अयोग्य वाक्यासमोर (x) खूण करा.

1) पूर आल्यास पाणी उकळून प्यावे. ()

2) भूकंप आल्यास घरात बसून राहावे. ()

3) अपघात झाल्यास 108 क्रमांकावर संपर्क करावा. ()

4) आग लागल्यास पोलिसांना बोलवावे. ()

47. उदाहरणे सोडवा.

1. एका व्यक्तीने दिवसभरात 8 लीटर पाणी पिणे आवश्यक आहे, तर ती व्यक्ती 4 दिवसात किती लिटर पाणी पिणार ?
2. कोविड लसीकरण मोहिमेअंतर्गत एका बाटलीमधून 10 व्यक्तींना लस देण्यात आली, तर 100 व्यक्तींच्या लसीकरणासाठी किती बाटल्यांची आवश्यकता असेल ?
3. एका पाकीटात 20 मास्क आहेत. घरात 4 व्यक्ती असतील तर प्रत्येकाला किती मास्क मिळतील ?

प्रश्नपेढी

घटक क्र. 9

48. खाली दिलेले काम करण्यास तुम्हांला अंदाजे किती वेळ लागेल ते लिहा.

1. गोठा झाडणे - _____ मिनिटे /तास

2. देवपूजा करणे - _____ मिनिटे /तास

3. तालुक्याच्या ठिकाणी पोहोचणे - _____ मिनिटे /तास

4. शेतात पोहोचण्यास लागणारा वेळ - _____ मिनिटे /तास

5. मशीनद्वारे सोयाबीनचा एक कट्टा भरण्यास लागणारा वेळ -

_____ मिनिटे /तास

49. खाली दिलेल्या शब्दांपासून वाक्य तयार करा.

1) वेळ _____

2) दिवस _____


3) घड्याळ _____

50. पुढील उदाहरणे सोडवा.


1. शेतात सकाळी 10 वाजता कापूस वेचणी सुरु झाली व सायंकाळी 5 वाजता संपली, तर किती तास कापूस वेचला ?

2. रामभाऊ यांना त्यांच्या शेतात फवारणीचा एक पंप मारण्यास 15 मिनिटे लागतात, तर 5 पंप मारण्यास किती वेळ लागेल ?

51. डिजिटल घड्याळातील वेळ सांगा.



----- वाजून ----- मिनिटे



----- वाजून ----- मिनिटे

52. रिकाम्या जागा भरा.

1) 1 मिनिट = _____ सेकंद

2) 7 दिवस = _____ आठवडा

3) 1 वर्ष = _____ दिवस

4) 1 वर्ष = _____ महिने

5) 180 सेकंद = _____ मिनिट

6) 4 मिनिट = _____ सेकंद

7) 14 दिवस = _____ आठवडे

8) 120 मिनिट = _____ तास

9) 4 तास = _____ मिनिट

10) 2 वर्षे = _____ महिने

प्रश्नपेढी

घटक क्र. 10

53. खालील प्रश्नांची उत्तरे द्या.

1. तुमच्या गावात प्रवासाची कोणकोणती साधने उपलब्ध आहेत ?

2. तुम्ही आजपर्यंत कोणकोणत्या साधनांनी प्रवास केलेला आहे ?

54. खालील वाक्ये चूक की बरोबर ते लिहा.

1) विमानाचा प्रवास सर्वांना परवडणारा असतो.

2) आपण तिकीट काढूनच प्रवास करावा.

3) माल वाहून नेण्यासाठी ट्रकचा वापर करतात.

4) विमान जेथे उतरते, त्या जागेला बंदर म्हणतात.

5) जहाज जिथे थांबते, त्या जागेला विमानतळ म्हणतात.

55. योग्य पर्यायाला (✓) अशी खूण करा.

1) शांताराम 13 वाजता एसटीने निघाला. निश्चित स्थळी 15 वाजता पोहोचला.
तर त्याने किती तास बसचा प्रवास केला.

अ) 2 तास ()

ब) 13 तास ()

क) 1 तास ()

2) आज 15 जानेवारी आहे, तर आजपासून 26 जानेवारी येण्यास किती दिवस
शिल्लक आहेत?

अ) 9 दिवस ()

ब) 10 दिवस ()

क) 11 दिवस ()

प्रश्नपेढी

घटक क्र. 11

56. खालील चित्र काळजीपूर्वक पहा व माहिती लिहा.



- 1) हे चित्र _____ आहे.
- 2) मुले _____ वर बसले आहेत.
- 3) मुलगी आई सोबत _____ घेत आहे.
- 4) जत्रेत _____ चे दुकान आहे.

57. प्रश्नांची उत्तरे द्या.

1. तुम्ही मनोरंजनासाठी काय करता ?

2. तुमच्याकडे मनोरंजनाचे कोणते साधन आहे ?

3. तुम्हांला कोणत्या कलेची आवड आहे ?

58. चूक (X) की बरोबर (✓) ते लिहा.

1) चित्रपटातून मनोरंजनासोबत प्रबोधनही घडते. ()

2) मोबाईल केवळ मनोरंजनाचे साधन आहे. ()

3) फार जवळून टीव्ही पाहू नये. ()

4) ध्वनिप्रदूषण आरोग्यासाठी चांगले असते. ()

5) फार मोठ्याने गाणी वाजवू नये. ()

6) रेडिओ व टीव्हीवरील बातम्यांमध्ये जगातील घडामोडी माहिती होतात. ()

7) लोककला हे समाजप्रबोधनाचे प्रभावी माध्यम आहे. ()

59. जोड्या लावा.

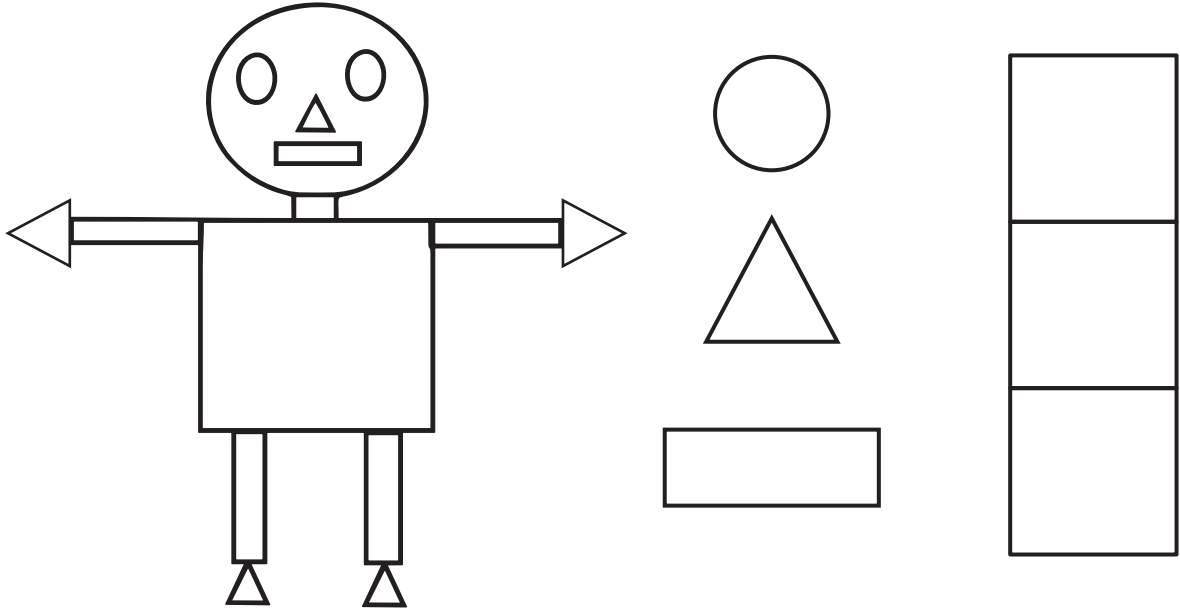
गट 'अ'

- अ) लावणी
- ब) जादूगार
- क) संबळ
- ड) नाटक
- इ) फुगडी, झोके, झिम्मा
- ई) दहिहंडी


गट 'ब'

- 1) देवीचा जागरण गोंधळ
- 2) श्रावण मास
- 3) नाट्यगृह
- 4) जन्माष्टमी
- 5) महाराष्ट्राचे प्रसिद्ध लोकनृत्य
- 6) जादूचे प्रयोग


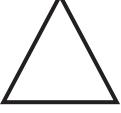


60. पुढील चित्रातील आकार मोजा व लिहा.



61. खालील आकाराचा वापर करून रांगोळी किंवा चित्र तयार करा.



62. पुढील आकारांच्या वस्तूंची प्रत्येकी दोन नावे लिहा.

	_____	_____
	_____	_____
	_____	_____
	_____	_____

63. पुढील संख्यांचा आकृतिबंध पूर्ण करा.

1)	4	8	_____	16	_____	_____
2)	50	100	_____	200	_____	_____
3)	300	400	_____	600	_____	_____
4)	650	675	_____	725	_____	_____
5)	6000	7000	_____	9000	_____	_____
6)	25000	25500	_____	26500	_____	_____

प्रश्नपेढी

घटक क्र. 12

64. खाली दिलेल्या फॉर्म मध्ये स्वतःची माहिती भरा.

नाव :- -----

वय :- -----

लिंग :- -----

आईचे नाव :- -----

वडिलांचे नाव :- -----

घराचा पत्ता :- -----

व्यवसाय :- -----

आधार क्रमांक :- -----

मोबाईल क्रमांक :- -----

गावाचे नाव :- -----

तालुका :- ----- जिल्हा :- -----

पिन कोड क्रमांक :- -----

राज्य :- -----


65. बँकेमध्ये खाते उघडण्यासाठी आवश्यक असणाऱ्या कागदपत्रांची नावे लिहा.

66. रिकाम्या जागी योग्य शब्द लिहा.

- 1) पैसे काढण्यासाठी ----- भरावी लागते.
(डिपॉझिट स्लिप (पावती) / विड्रॉल स्लिप (पावती))
- 2) एटीएम कार्ड हरवल्यास ताबडतोब ----- कळवावे.
(बँकेला / डॉक्टरांना)
- 3) ----- चा वापर करून आपण विजेचे बिल भरू शकतो.
(इंटरनेट / पासबुक)
- 4) चेकची वैधता लिहिलेल्या दिनांकापासून ----- महिने
असते. (३ महिने / ६ महिने)

67. तुम्हाला बँकेतून 25000 रुपये काढायचे आहे. त्यासाठी खालील स्लिप भरा.

खाताधारक का (खाताधारक) के) नाम /Name of the Account Holder (s) :

 भारतीय स्टेट बँक STATE BANK OF INDIA शाखा /Branch	बचत बँक आहरण फॉर्म SAVINGS BANK WITHDRAWAL FORM	दिनांक /Date.....
	नोट : यह फार्म चेक नहीं है। इस फार्म के साथ पास बुक प्रस्तुत नहीं किये जाने पर भुगतान के लिये इन्कार किया जायेगा। यह भुगतान केवल मूल (होम) शाखा में ही किया जायेगा। NOTE : This form is not a cheque. Payment will be refused if the pass book is not produced with this form. This payment will be made only at the Home Branch.	खाता संख्या /Account Number
कृपया मुझे /हमें रु..... (रुपये) मात्र) का भुगतान करें और मेरे/हमारे उपर्युक्त बचत बैंक खाते को यह राशि नामें करें। Please pay self/ourselves Rs..... (Rupees) and debit the amount to my/our above savings bank account.		
फोन/मोबाइल नं. Phone/Mobile No.	खाताधारक (को) के हस्ताक्षर /Signature (s) of the Account Holder (s)	
कार्यालय उपयोग हेतु / FOR OFFICE USE		
पासकर्ता /Passed by	हस्ताक्षर /Signature	पासकर्ता /Passed by
एसडब्ल्यूओ / SWO		पासकर्ता अधिकारी / PASSING OFFICER.

Maxwell/10,000 Pads x 100 Lvs/Order No. 21 dt. 07/03/14 Item code : 1045815
 C.O.S. 161R
 अपरिहार्य /NOT NEGOTIABLE

68. नीलमच्या खात्यात बँकेत 12000 रुपये होते. तिने बँकेत 5000 रुपये जमा केले, तर आता तिच्या खात्यात किती रुपये जमा आहेत ?
69. सविताने 700 रुपयांचा एक याप्रमाणे तीन गालिचे ऑनलाईन मागविले. त्यासाठी तिने मोबाईल द्वारे किती रुपयांचे ऑनलाईन पेमेंट केले असेल ?
70. सखारामने एक कार खरेदी केली. त्यासाठी त्याला 2,00,000 रुपये नगद व 6,00,000 रुपयांचे कर्ज बँकेकडून घ्यावे लागले, तर कारची किंमत किती असेल ?

71. दुर्गादास ने आपल्या 3 मुलांना 12,00,000 समान वाटले, तर प्रत्येक मुलाला किती लाख रुपये मिळाले ?

प्रश्नपेढी

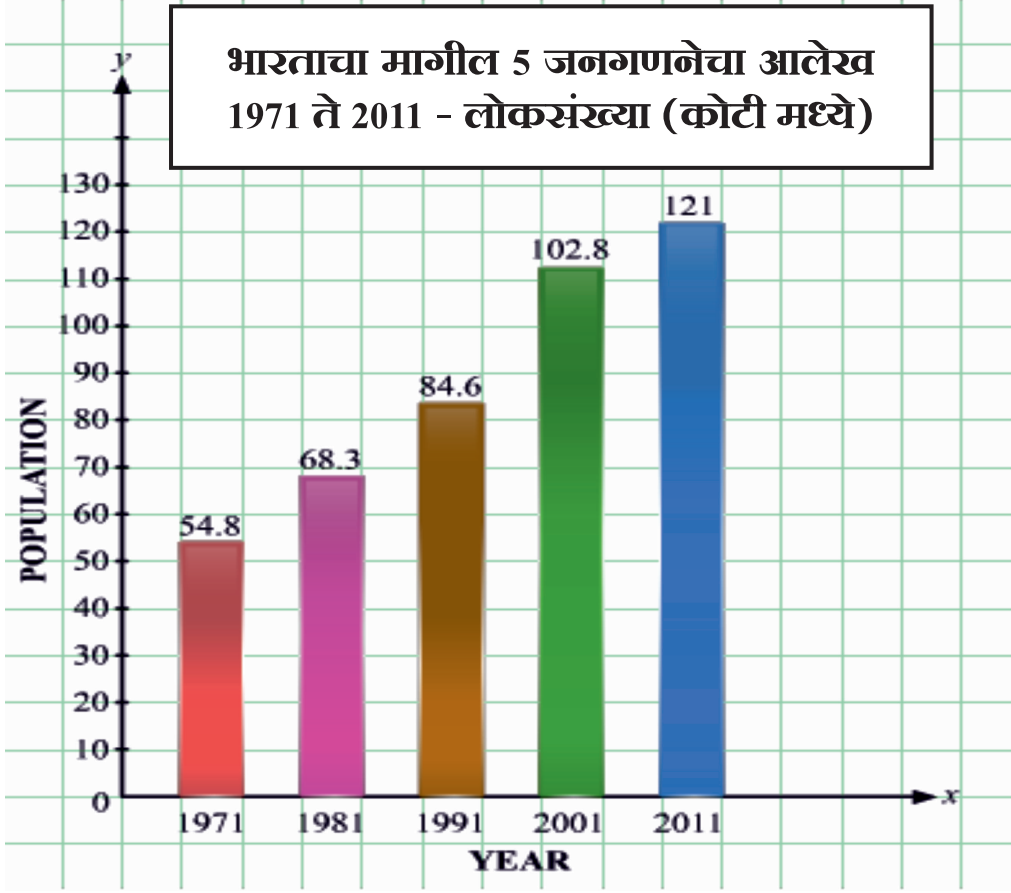
घटक क्र. 13

72. चूक की बरोबर ते लिहा.

- 1) आपल्या मोबाईलवरील फोटोचा कुणीही गैरवापर करू शकतो. ()
- 2) इंटरनेटवर आपली व्यक्तिगत माहिती टाकावी. ()
- 3) मोबाईलचा वापर आवश्यक असेल, तरच करावा. ()
- 4) इंटरनेटवर अपरिचित व्यक्तींशी मैत्री करावी. ()

73. तुम्ही मोबाईलचा वापर कोणकोणत्या कामासाठी करता ते लिहा.

74. खाली भारताच्या मागील 5 जनगणनांचा आलेख दिलेला आहे. त्यावरून विचारलेल्या प्रश्नांची उत्तरे द्या.



- 1) सर्वात जास्त लोकसंख्या कोणत्या वर्षीची आहे ?
-

- 2) 1991 ची लोकसंख्या किती कोटी आहे ?
-

- 3) 121 कोटी लोकसंख्या कोणत्या वर्षीची आहे ?
-

- 4) 1971 ते 2011 पर्यंत लोकसंख्येत वाढ झालेली दिसते, की घट झालेली दिसते ?
-

75. खाली वर्ध्याहून पुण्याकडे जाणाऱ्या रेल्वे गाड्यांची सारणी दिलेली आहे. त्यांचे निरीक्षण करून प्रश्नांची उत्तरे द्या.

गाडी क्रमांक	गाडीचे नाव	गाडी सुटण्याची वेळ	दिवस	प्लॅटफॉर्म क्रमांक
12130	आझाद हिंद एक्सप्रेस	5.00 PM	दररोज	2
11040	महाराष्ट्र एक्सप्रेस	11:59 AM	दररोज	2
12136	नागपूर-पुणे सुपरफास्ट एक्सप्रेस	7:05 PM	सोमवार, बुधवार, शनिवार	2
12849	पुणे सुपरफास्ट एक्सप्रेस	7:05 PM	केवळ गुरुवार	2

1) 12136 क्रमांकाच्या रेल्वे गाडीचे नाव लिहा.

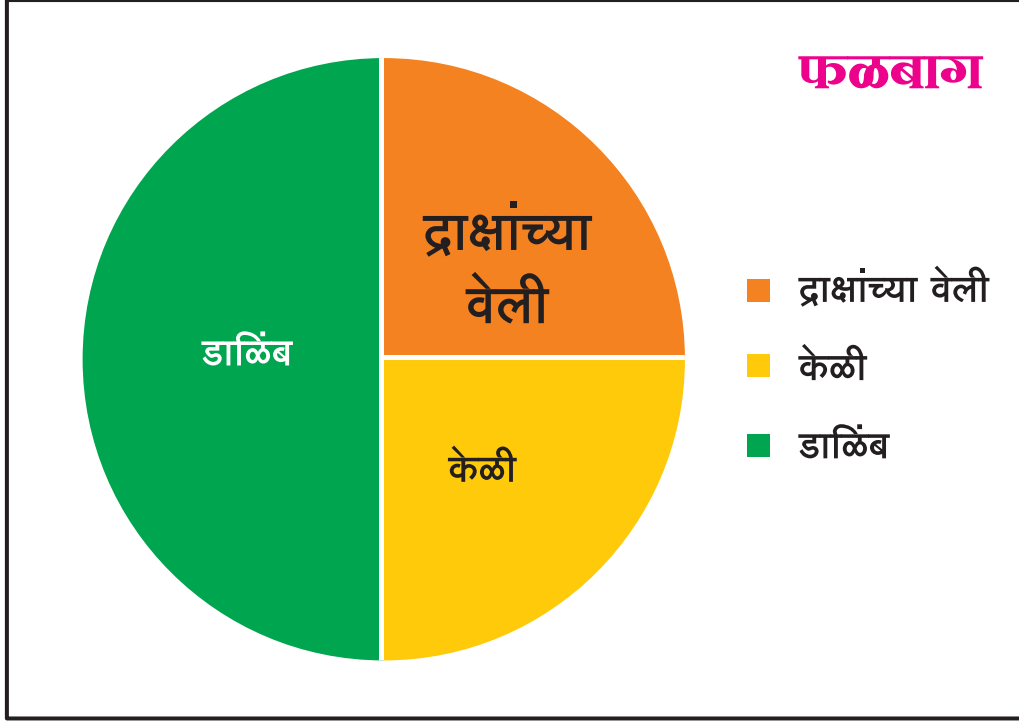
2) महाराष्ट्र एक्सप्रेस वर्ध्याहून किती वाजता सुटते ?

3) फक्त गुरुवारी सुटणाऱ्या रेल्वे गाडीचा क्रमांक लिहा.

4) 12130 क्रमांकाची गाडी आठवड्यातून किती दिवस धावते ?

5) वर्ध्याहून निघताना महाराष्ट्र एक्सप्रेस किती नंबरच्या प्लॅट फॉर्मवरून सुटते ?

75. चित्राचे निरीक्षण करून खालील प्रश्नांची उत्तरे लिहा.



1) वरील फळबागेच्या किती भागात डाळिंबाची लागवड केलेली आहे ?

2) फळबागेच्या किती भागात केळी लावलेली आहेत ?

3) फळबागेच्या किती भागात द्राक्षवेळी आहेत ?

4) फळबागेत एकूण किती प्रकारची फळे लावलेली आहेत ?

5) फळबागेचा सर्वात जास्त भाग कोणत्या फळझाडांनी व्यापलेला आहे ?
