

सरावासाठी प्रश्नपत्रिका सोडवताना सदर पृष्ठावरील माहिती भरण्याची आवश्यकता नाही .
सदर पृष्ठ सद्यस्थितीत फक्त माहितीस्तव आहे.

सदर प्रश्नपत्रिकेमध्ये 8 प्रश्न आणि 12 पृष्ठे आहेत.

Code No. SCL/01/24/MARATHI/set 1

ULLAS- मूल्यमापन सराव परीक्षा

परीक्षा केंद्र क्रमांक													
------------------------	--	--	--	--	--	--	--	--	--	--	--	--	--

नोंदणी क्रमांक																				
----------------	--	--	--	--	--	--	--	--	--	--	--	--	--	--	--	--	--	--	--	--

परीक्षा दिनांक																				
----------------	--	--	--	--	--	--	--	--	--	--	--	--	--	--	--	--	--	--	--	--

परीक्षार्थीचे नाव : _____

परीक्षार्थीची सही : _____

पर्यवेक्षकांची सही : 1. _____

2. _____

केंद्र संचालकाची सही

परीक्षार्थींसाठी सूचना (पर्यवेक्षकांनी वाचून समजावून सांगणे.)

- 1) परीक्षार्थींनी वरील माहिती भरणे आवश्यक आहे.
- 2) जर मिळालेली प्रश्नपत्रिका फाटलेली किंवा काही पृष्ठे गहाळ असतील किंवा छपाई स्पष्ट नसेल, तर परीक्षार्थींनी दुसरी प्रश्नपत्रिका घ्यावी.
- 3) प्रश्नपत्रिका बाहेर घेऊन जाण्यास अनुमती नाही.
- 4) प्रत्येक प्रश्नानंतर उत्तरासाठी जागा दिलेली आहे. उत्तर केवळ दिलेल्या जागेतच लिहावे.
- 5) परीक्षार्थींनी उत्तरे लिहिल्यानंतर प्रश्नपत्रिका पर्यवेक्षकांकडे जमा करावी, जागेवरच ठेऊ नये.
- 6) परीक्षेसाठी एकूण वेळ 3 तास असेल.
- 7) प्रश्नपत्रिकेचे एकूण तीन भाग आहेत. भाग क: वाचन, भाग ख: लेखन, भाग ग: गणित. प्रत्येक भाग 50 गुणांचा आहे.
- 8) सर्व प्रश्न आवश्यक आहेत.

प्रश्न क्रमांक आणि प्राप्त गुण			
प्रश्न क्र.	वाचन	लेखन	गणित
1			
2			
3			
4			
5			
6			
7			
8			
एकूण			
एकूण गुण:	अक्षरात:		
मुल्यांकनकर्त्याची सही			

भाग क - वाचन






गुण - 50

प्रश्न 1) दिलेल्या शब्दातील 'म' व 'ग' या अक्षरांना गोल करा. $1 \times 6 = 6$

ट - टपाल गट ताट

र - रवी धूर चरखा

प्रश्न 2) रेषा ओढून शब्द व चित्र यांच्या जोड्या लावा - $1 \times 5 = 5$

क.	पणती	
ख.	आवळे	
ग.	पालेभाजी	
घ.	सफरचंद	
ङ.	औषध	

प्रश्न 3) चित्रात दिसणाऱ्या चार वस्तूंच्या नावाला गोल करा - $2 \times 4 = 8$



तबला	संगणक	फळा	शिक्षक	मुलगा	संगीतपेटी
------	-------	-----	--------	-------	-----------

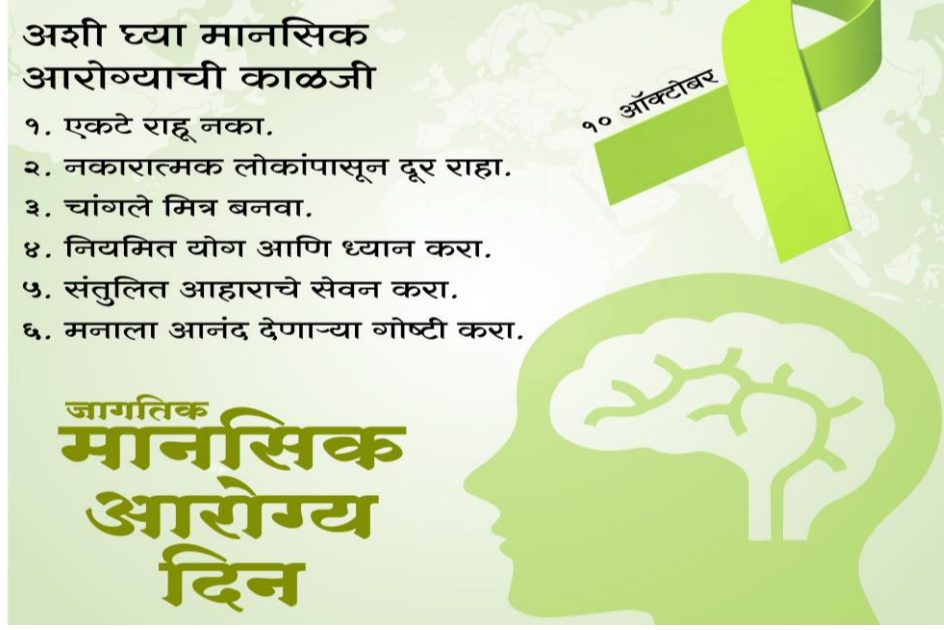
प्रश्न 4) दोन योग्य भागांना रेषेने जोडा -

$2 \times 5 = 10$

क	चेकची वैधता	मोबाईल वरून भरता येते.
ख	वीज बिल	ATM मशीन मधून काढता येतात.
ग	खात्यावरील पैसे ATM कार्डद्वारे	3 महिन्यापर्यंत असते.
घ	बँकेत मुदत ठेवीवर	कर्ज काढता येते.
ङ	सोने तारण ठेवून	व्याज मिळते.

प्रश्न 5) पोस्टर पहा आणि दिलेल्या वाक्यासमोर (✓) किंवा (×) खूण करा .

3 × 4 = 12



- 1) मानसिक आरोग्याची काळजी घेण्याची गरज नसते. ()
- 2) नियमित योग आणि ध्यान करा. ()
- 3) एकटे राहा. ()
- 4) संतुलित आहाराचे सेवन करा. ()

प्रश्न 6) पुढील वाक्य वाचून चुकीच्या शब्दावर (x) अशी खूण करा. 3 × 3 = 9

1. (चंद्र / सूर्य) पृथ्वी भोवती फिरतो.
2. चंद्रयान -3 हे इस्रो या संस्थेने (मंगळावर /चंद्रावर) पाठवले.
3. सूर्य स्वयंप्रकाशित (आहे /नाही.)

भाग ख - लेखन

गुण - 50






प्रश्न 1) दिलेल्या अक्षरांपासून एक-एक शब्द बनवा.

$2 \times 3 = 6$

ह - _____
य - _____
ज - _____

प्रश्न 2) चित्र पाहून त्याचे नाव लिहा-

$2 \times 5 = 10$

				
_____	_____	_____	_____	_____

प्रश्न 3) योग्य शब्द निवडून वाक्य पूर्ण करा -

$2 \times 4 = 8$

बँक	सोने	अठरा	अपघात
-----	------	------	-------

1. रस्त्यावरझाल्यास त्वरित 108 नंबर वर फोन करावा.
- 2मध्ये जमा केलेल्या रकमेवर आपल्याला व्याज मिळते.
3. काही बँकेत..... तारण ठेवून त्यावर कर्ज घेता येते.
4. वयाचीवर्षे पूर्ण झालेल्या प्रत्येक व्यक्तीला मतदान करण्याचा अधिकार आहे.

प्रश्न 4) दिलेल्या शब्दापासून वाक्य बनवा. -

3×3=9

पत्र -

पुस्तक -

लाभ -.....

प्रश्न 5) सूचनेप्रमाणे लिहा

1 × 2 = 2

1. तुमचे गाव -

2. तुमच्या नजिकच्या बँकेचे नाव -

प्रश्न 6) दिलेले चित्र पाहून 5 वाक्ये लिहा -

3 × 5 = 15

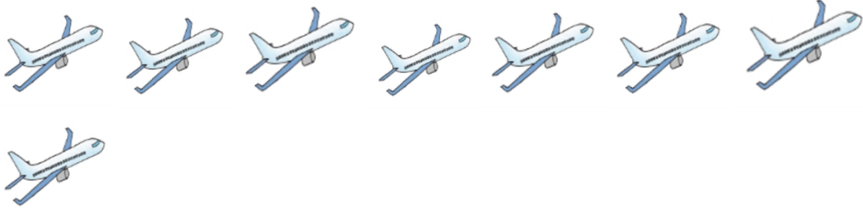
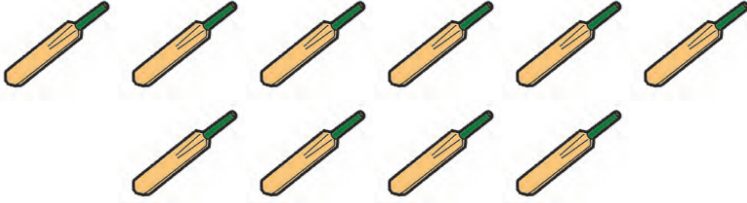






भाग ग – गणित

गुण - 50

प्रश्न 1) चित्रे व संख्या यांच्या जोड्या जुळवा

$$1 \times 6 = 6$$

	<p>10</p>
	<p>8</p>
	<p>11</p>
	<p>7</p>
	<p>16</p>
	<p>9</p>






प्रश्न 2) क्रमाने संख्या पूर्ण करा -

$$1 \times 5 = 5$$

क	31	32	_____	34
ख	1	3	_____	7
ग	100	_____	80	70
घ	30	35	_____	45
च	25	_____	75	100

प्रश्न 3) वस्तू व किमती यांच्या जोड्या जुळवा

$$1 \times 3 = 3$$

<p>टेबल - ₹ 800</p> 	
<p>खुर्ची - ₹ 500</p> 	
<p>पंखा - ₹ 600</p>	

प्रश्न 4) उदाहरणे सोडवा -

$$2 \times 4 = 8$$

अ) $66 + 22 = \text{-----}$

ब) $77 - 13 = \text{-----}$

क) $18 \times 4 = \text{-----}$

ड) $60 \div 10 = \text{-----}$

प्रश्न 5) क) संगमने 400 रुपयाला एक याप्रमाणे 2 खुर्च्या विकत घेतल्या तर त्याने दुकानदाराला एकूण किती रुपये दिले ?

$$1 \times 4 = 4$$

.....
.....
..

ख) सीमाने आपल्या बागेत आंब्याची 80 रोपे आणि चिकूची 40 रोपे लावली तर तिने एकूण किती रोपे लावली ?

$$1 \times 4 = 4$$

.....
.....
..

प्रश्न 6) रिकाम्या जागा भरा -

$$2 \times 4 = 8$$

6 किलोमीटर =मीटर

7000 मिली लिटर = लिटर

3 आठवडे = दिवस

250 ग्रॅम =किलोग्रॅम

प्रश्न 7)(क) घड्याळ पाहून वेळ लिहा -

$$2 \times 4 = 8$$

	08:10
.....वाजूनमिनिटेवाजूनमिनिटे

प्रश्न 7) ख दिनदर्शिका पाहून उत्तरे लिहा -

$$1 \times 4 = 4$$

८	ऑगस्ट २०१४	दिनदर्शिका	श्रावण-भाद्रपद संके १९३६		
रवि	३१	३	१०	१७	२४
सोम		४	११	१८	२५
मंगळ		५	१२	१९	२६
बुध		६	१३	२०	२७
गुरु		७	१४	२१	२८
शुक्र	१	८	१५	२२	२९
शनि	२	९	१६	२३	३०

- 1) स्वातंत्र्य दिन कोणत्या वारी येतो ?
- 2) ऑगस्ट महिना किती दिवसांचा आहे ?
- 3) 6 तारखेला कोणता वार येतो ?
- 4) या महिन्यात किती मंगळवार आले आहेत ?

