

सरावासाठी प्रश्नपत्रिका सोडवताना सदर पृष्ठावरील माहिती भरण्याची आवश्यकता नाही .
सदर पृष्ठ सद्यस्थितीत फक्त माहितीस्तव आहे.

सदर प्रश्नपत्रिकेमध्ये 8 प्रश्न आणि 12 पृष्ठे आहेत.

Code No. SCL/01/24/MARATHI/set 1

ULLAS- मूल्यमापन सराव परीक्षा

परीक्षा केंद्र क्रमांक													
------------------------	--	--	--	--	--	--	--	--	--	--	--	--	--

नोंदणी क्रमांक																			
----------------	--	--	--	--	--	--	--	--	--	--	--	--	--	--	--	--	--	--	--

परीक्षा दिनांक																			
----------------	--	--	--	--	--	--	--	--	--	--	--	--	--	--	--	--	--	--	--

परीक्षार्थीचे नाव : _____
परीक्षार्थीची सही : _____
पर्यवेक्षकांची सही : 1. _____
2. _____

केंद्र संचालकाची सही

परीक्षार्थींसाठी सूचना (पर्यवेक्षकांनी वाचून समजावून सांगणे.)

- 1) परीक्षार्थींनी वरील माहिती भरणे आवश्यक आहे.
- 2) जर मिळालेली प्रश्नपत्रिका फाटलेली किंवा काही पृष्ठे गहाळ असतील किंवा छपाई स्पष्ट नसेल, तर परीक्षार्थींनी दुसरी प्रश्नपत्रिका घ्यावी.
- 3) प्रश्नपत्रिका बाहेर घेऊन जाण्यास अनुमती नाही.
- 4) प्रत्येक प्रश्नानंतर उत्तरासाठी जागा दिलेली आहे. उत्तर केवळ दिलेल्या जागेतच लिहावे.
- 5) परीक्षार्थींनी उत्तरे लिहिल्यानंतर प्रश्नपत्रिका पर्यवेक्षकांकडे जमा करावी, जागेवरच ठेऊ नये.
- 6) परीक्षेसाठी एकूण वेळ 3 तास असेल.
- 7) प्रश्नपत्रिकेचे एकूण तीन भाग आहेत. भाग कः वाचन, भाग खः लेखन, भाग गः गणित. प्रत्येक भाग 50 गुणांचा आहे.
- 8) सर्व प्रश्न आवश्यक आहेत.

प्रश्न क्रमांक आणि प्राप्त गुण			
प्रश्न क्र.	वाचन	लेखन	गणित
1			
2			
3			
4			
5			
6			
7			
8			
एकूण			
एकूण गुणः	अक्षरातः		
मुल्यांकनकर्त्याची सही			

भाग क - वाचन

गुण - 50

1) दिलेल्या शब्दातील 'न' व 'स' या अक्षरांना गोल करा. $1 \times 6 = 6$

न - जनक नळ पवन

स - सफाई फणस समई

2) रेषा ओढून शब्द व चित्र यांच्या जोड्या लावा - $1 \times 5 = 5$

क.	मोटार सायकल	
ख.	ऊस	
ग.	चिकू	
घ.	मोबाईल	
ङ.	पुस्तके	

3) चित्रात दिसणाऱ्या चार वस्तूंच्या नावाला गोल करा -

$2 \times 4 = 8$



घर संगणक धान्याचे पोते तराजू प्रिंटर मांजर

4) वाक्यांशाच्या दोन योग्य भागांना रेषेने जोडा -

$2 \times 5 = 10$

क.	मनोरंजन म्हणजे	मतदानाचा अधिकार आहे.
ख.	वयाची १८ वर्षे पूर्ण केलेल्या प्रत्येक व्यक्तीला	संलग्न केलेले असते.
ग.	पाण्याचा वापर	कोणालाही देऊ नका.
घ.	आपली गोपनीय माहिती	मनाची निर्भेळ करमणूक होय.
ङ.	आधार कार्ड आपल्या बँक खात्याला	काटकसरीने करावा.

5) पोस्टर पहा आणि दिलेल्या वाक्यासमोर (✓) किंवा (×) खूण करा. $3 \times 3 = 9$

मीच माझा रक्षक!
माझे आरोग्य, माझी जबाबदारी

हे करा....स्वतःला व इतरांना सुरक्षित ठेवा

कोविड -१९
घाबरू नका... पण जागरूक रहा

साबणाने हात स्वच्छ धुवा.

शिकताना व खोमकताना सोंघावर व नाकवदर रुमाल वापरा.

ताप, खोरडा खोकला किंवा बखार घेण्यास त्रास होत असल्यास लोकांशी नजीकचा संपर्क टाळा

मांस आणि अंडी पूर्णपणे शिजवून / उकडून घ्या.

अधिक माहितीसाठी संपर्क साधा :-
राष्ट्रीय कॉल सेंटर क्र. +91-11-23978046 • राज्यस्तरीय नियंत्रण कक्ष क्र. 020-26127394 • टोल फ्री हेल्पलाईन क्र. 104

f /MahaArogyaIECBureau @MahaHealthIEC /mahahealthiec /MahaHealthIEC @MahaHealthIEC राज्य आरोग्य शिक्षण व संकटकेंद्र, पुणे.

1) माझे आरोग्य, माझी जबाबदारी.. ()

2) साबणाने हात धुवू नयेत. ()

3) मांस आणि अंडी पूर्णपणे शिजवून / उकडून घ्या. ()

6) पत्र वाचून दिलेल्या वाक्यासमोर(✓)किंवा(x) अशी खूण करा. $2 \times 6 = 12$

आदरणीय सहकारी नितीश,

10/01/2024

माझ्या आईची तब्येत ठीक नसल्यामुळे तिला भेटण्यासाठी मी उद्या दिनांक 11/01/2024 ते 13/01/2024 हे तीन दिवस माझ्या गावी लातूर येथे जाणार आहे. तरी या तीन दिवसांत कामाचे व्यवस्थापन आपण पहावे ही नम्र विनंती.

आपला विश्वासू
सारंग बडे.

1. हे पत्र सारंग बडे यांनी लिहिले आहे. ()

2. हे पत्र आईला लिहिले आहे. ()

3. सारंगच्या बाबांची तब्येत ठीक नाही. ()

4. सारंग 3 दिवस कार्यालयात उपस्थित राहू शकत नाही. ()

5. आई लातूर ला राहते. ()

6. हे पत्र 10 फेब्रुवारीला लिहिले आहे. ()

भाग ख - लेखन

गुण - 50

1) दिलेल्या अक्षरांपासून एक-एक शब्द बनवा.

$2 \times 3 = 6$






ल - _____

श - _____

ह - _____

2) चित्र पाहून त्याचे नाव लिहा-

$2 \times 5 = 10$

				
_____	_____	_____	_____	_____

3) योग्य शब्द निवडून वाक्य पूर्ण करा -

$2 \times 4 = 8$

औषधोपचाराची तक्रार जिरवा मतदान

1. पाणी अडवा, पाणी.....

2. प्राथमिक आरोग्य केंद्रावर सुविधा असते.

3. मतदान करण्यासाठी केंद्रावर जावे.

4. प्रत्येक ग्राहकाला निवारणाचा हक्क आहे.

4) दिलेल्या शब्दापासून वाक्य बनवा. -

$3 \times 3 = 9$

स्वस्त -

ताजे -

पत्र -

5) सूचनेप्रमाणे लिहा


$1 \times 2 = 2$

तालुक्याचे नाव -

गावाचे नाव -

6) दिलेले चित्र पाहून 5 वाक्ये लिहा -

$3 \times 5 = 15$



.....

.....

.....

.....







.....

भाग ग – गणित

गुण - 50

चित्रे व संख्या यांच्या जोड्या जुळवा -

$$1 \times 6 = 6$$

	5
	7
	14
	4
	11
	3




2) क्रमाने संख्या पूर्ण करा -

$1 \times 5 = 5$

क	12	13	14
ख	20	60	80
ग	3	6	9
घ	20	19	18
च	5	15	25

3) वस्तू व किमती यांच्या जोड्या जुळवा

$1 \times 3 = 3$

चादर - ₹ 400	
हळद - ₹ 60	
चटई - ₹ 125	

4) उदाहरणे सोडवा -

$2 \times 4 = 8$

अ) $23 + 17 = \text{-----}$

ब) $49 - 13 = \text{-----}$

क) $10 \times 5 = \text{-----}$

ड) $90 \div 9 = \text{-----}$

5) क) गीता ने 700 रुपयाला एक याप्रमाणे 2 साड्या विकत घेतल्या तर तिने दुकानदाराला एकूण किती रुपये दिले ?

$$1 \times 4 = 4$$

ख) एका रुग्णाला डॉक्टरने औषधाच्या 20 गोळ्यांचे एक पाकीट दिले आणि रोज 2 गोळ्या खाण्यास सांगितले तर रुग्णाला किती दिवसाचे औषध मिळाले ?

$$1 \times 4 = 4$$

6) रिकाम्या जागा भरा -

$$2 \times 4 = 8$$

अर्धा तास =मिनिटे

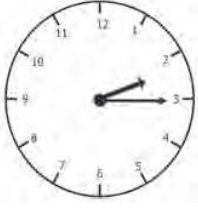
4000 मिली लिटर = लिटर

2 आठवडे = दिवस

250 ग्रॅम =किलोग्रॅम

7)(क) घड्याळ पाहून वेळ लिहा -

$$2 \times 4 = 8$$

	<div style="background-color: #4a7ebb; color: white; padding: 10px; border-radius: 10px; display: inline-block;"> 05:00 </div>
.....वाजूनमिनिटेवाजूनमिनिटे

प्रश्न 7 ख दिनदर्शिका पाहून उत्तरे लिहा -

$$1 \times 4 = 4$$

८	ऑगस्ट २०१४	दिनदर्शिका			श्रावण-भाद्रपद संके १९३६
रवि	३१	३	१०	१७	२४
सोम		४	११	१८	२५
मंगळ		५	१२	१९	२६
बुध		६	१३	२०	२७
गुरु		७	१४	२१	२८
शुक्र	१	८	१५	२२	२९
शनि	२	९	१६	२३	३०

- 1) ऑगस्ट महिन्यात किती गुरुवार आले आहेत ?
- 2) 15 ऑगस्ट ला कोणता वार येतो ?
- 3) ऑगस्ट महिन्याचे दिवस किती ?
- 4) दुसऱ्या शनिवारी किती तारीख येते ?