

उल्लास

कृतिपत्रिका

13. डिजिटल साक्षरता



राज्य शैक्षणिक संशोधन व प्रशिक्षण परिषद, महाराष्ट्र, पुणे.

राज्य साक्षरता केंद्र

कृतिपत्रिका - 1

13. डिजिटल साक्षरता

- रेल्वेसारणी बघून खालील प्रश्नांची उत्तरे द्या.

गाडी नंबर	मुंबई - पुणे रेल्वे	येण्याची वेळ	सुटण्याची वेळ
12123	मुंबई - पुणे डेक्कन क्वीन	20.25	20.35
11009	मुंबई - पुणे सिंहगड एक्सप्रेस	18.04	18.10
11025	मुंबई - पुणे प्रगती एक्सप्रेस	19.05	19.25
12127	पुणे - मुंबई इंटरसिटी एक्सप्रेस	-----	09.03

- 1) मुंबई - पुणे डेक्कन क्वीन या गाडीचा नंबर काय आहे?

- 2) सिंहगड एक्सप्रेस मुंबईला किती वाजता येणार आहे?

- 3) डेक्कन क्वीन ही गाडी किती वाजता मुंबईहून सुटणार आहे?

- 4) प्रगती एक्सप्रेस मुंबईहून किती वाजता सुटणार आहे?

- 5) पुणे - मुंबई इंटरसिटी एक्सप्रेसची येण्याची वेळ का लिहिलेली नसेल?

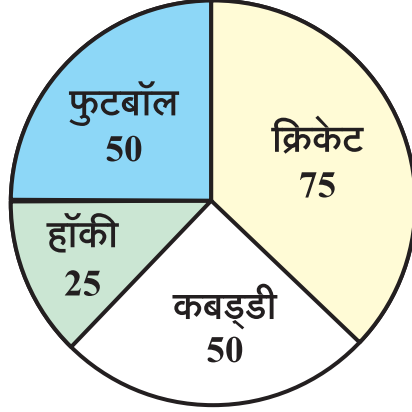
अध्ययन निष्पत्ती क्र. - भाषा : 9, 12 गणित : 12, 14

- आम्ही शिकलो : रेल्वेसारणी वाचून डिजिटल घड्याळाचा वापर करायला शिकलो.

कृतिपत्रिका - 2

13. डिजिटल साक्षरता

- खालील वृत्तालेखात एका शाळेतील किती विद्यार्थ्यांना, कोणता खेळ खेळायला आवडतो, याची माहिती दिली आहे. त्या आधारे पुढील प्रश्नांची उत्तरे द्या.



1) विद्यार्थी कोणता खेळ सर्वात जास्त खेळतात ?

2) हॉकी खेळ किती विद्यार्थी खेळतात ?

3) कोणते दोन खेळ खेळणाऱ्या विद्यार्थ्यांची संख्या सारखी आहे ?

4) हॉकीपेक्षा कबड्डी किती विद्यार्थी जास्त खेळतात ?

5) शाळेत एकूण किती विद्यार्थी आहेत ?

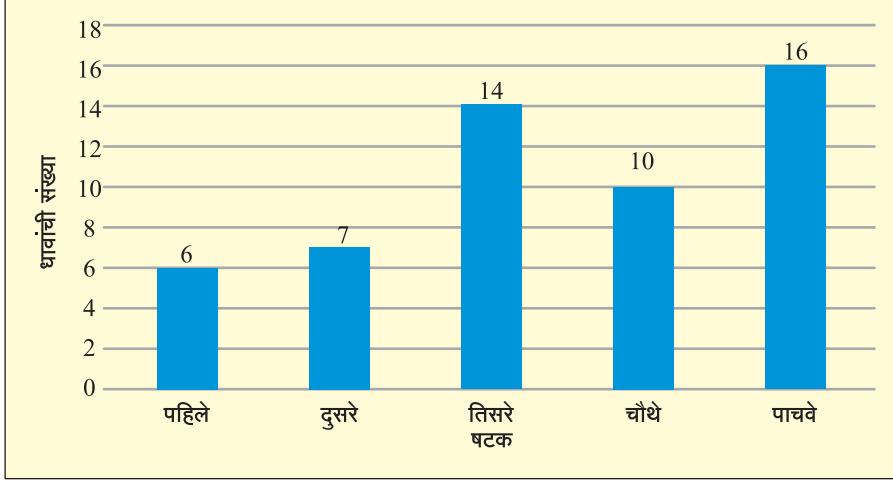
अध्ययन निष्पत्ती क्र. : भाषा : 9, 12, 15 गणित : 1, 4

- आम्ही शिकलो : विविध आलेख समजून त्या आधारे निष्कर्ष काढायला शिकलो.

कृतिपत्रिका - 3

13. डिजिटल साक्षरता

- विजय टी. व्ही. वर ट्वेंटी-ट्वेंटी क्रिकेट मॅच बघत आहे. पहिल्या 5 षटकांच्या धावांची संख्या चित्ररूपात दाखविली आहे. (खालील स्तंभालेख पाहून उत्तरे लिहा.)



1) सर्वात जास्त धावा कोणत्या षटकामध्ये निघाल्या?

2) तिसऱ्या षटकामध्ये किती धावा निघाल्या?

3) 7 धावा कोणत्या षटकामध्ये निघाल्या आहेत?

4) सर्वात कमी धावा कोणत्या षटकामध्ये निघाल्या आहेत?

5) चौथ्या षटकामध्ये तिसऱ्या षटकापेक्षा किती धावा कमी निघाल्या?

अध्ययन निष्पत्ती क्र. : भाषा : 9, 12, 15 गणित : 1, 4

- आम्ही शिकलो : आलेख समजून त्याआधारे निष्कर्ष काढायला शिकलो.

कृतिपत्रिका - 4

13. डिजिटल साक्षरता

- गोपाल आपला मोबाईलमध्ये रिचार्ज करण्यासाठी एका दुकानात गेला. दुकानदाराने त्याला खालील प्लॅन व त्यांची वैधता सांगितली.

प्लॅन	₹ 99	₹ 399	₹ 455
वैधता	24 दिवस	28 दिवस	84 दिवस

1) कोणता रिचार्ज गोपालसाठी फायदेशीर ठरेल ?

2) गोपालने ₹ 455 चा रिचार्ज केला व त्याने दुकानदाराला ₹ 500 ची नोट दिली, तर त्याला किती रुपये परत मिळतील ?

3) गोपालने ₹ 399 दिवसाचा रिचार्ज केला, तर त्याला परत किती दिवसांनी रिचार्ज करावे लागेल ?

अध्ययन निष्पत्ती क्र. : भाषा : 9, 12, 15 गणित : 1, 4, 5

- आम्ही शिकलो : दैनंदिन जीवनात मात्रा व मूल्य यांच्या आधारे हिशोब करायला शिकलो.

कृतिपत्रिका - 5

13. डिजिटल साक्षरता

- तुम्ही मोबाईलचा उपयोग कोणकोणत्या कामासाठी करता याची यादी करा.



- 1) _____
- 2) _____
- 3) _____
- 4) _____
- 5) _____
- 6) _____
- 7) _____
- 8) _____
- 9) _____
- 10) _____


अध्ययन निष्पत्ती क्र. 9, 11, 12, 14, 15

- आम्ही शिकलो : दैनंदिन जीवनात मोबाईलचा वापर करायला शिकलो.

कृतिपत्रिका - 6

13. डिजिटल साक्षरता

- तुम्ही तुमच्या मोबाईलमधील काय काय वापरता, त्याखाली (✓) अशी खूण करा.



अध्ययन निष्पत्ती क्र. 9, 11, 13, 14, 15

- आम्ही शिकलो : मोबाईलमध्ये विविध अॅप्सचा वापर व कार्य शिकलो.

कृतिपत्रिका - 7

13. डिजिटल साक्षरता

- योग्य की अयोग्य ते लिहा.

- 1) आपला पिन/ओ.टी.पी./खात्याचे विवरण कोणालाही देऊ नये. (_____)
- 2) पासवर्ड शक्यतोवर लिहून ठेवू नये, पाठच करावा. (_____)
- 3) इंटरनेटवर आपली व्यक्तिगत माहिती टाकावी. (_____)
- 4) मोफत उपहार देणाऱ्या ऑनलाईन ऑफर घ्याव्यात. (_____)
- 5) इंटरनेटवर अपरिचित व्यक्तींशी मैत्री वाढवू नये. (_____)
- 6) तुमच्या खात्यात एवढे पैसे जमा झाले, अभिनंदन! अशा मेसेजची लिंक ओपन करू नये. (_____)

अध्ययन निष्पत्ती क्र. 9, 11, 12, 13, 14

- आम्ही शिकलो : सायबर क्राईमपासून स्वतःला कसे वाचवावे हे शिकलो.

कृतिपत्रिका - 8

13. डिजिटल साक्षरता

- बँक व्यवहाराबद्दल माहिती लिहा.

अध्ययन निष्पत्ती क्र. 9, 11, 12, 14, 15

- आम्ही शिकलो : बँक व्यवहार कसे करावे हे शिकलो.

कृतिपत्रिका - 9

13. डिजिटल साक्षरता

- तुम्हांला माहीत असलेल्या कोणत्याही 5 बँकांची नावे लिहा.

1) _____

2) _____

3) _____

4) _____

5) _____

- बँकेचे कोणतेही 3 उपयोग लिहा.

1) _____

2) _____

3) _____

अध्ययन निष्पत्ती क्र. 9, 11, 12, 14, 15

- आम्ही शिकलो : बँकेचे विविध उपयोग शिकलो.

कृतिपत्रिका - 10
13. डिजिटल साक्षरता

- दिनदर्शिकेचे निरीक्षण करून प्रश्नांची उत्तरे द्या.

माहे - फेब्रुवारी २०२३

रविवार		5	12	19	26
सोमवार		6	13	20	27
मंगळवार		7	14	21	28
बुधवार	1	8	15	22	
गुरुवार	2	9	16	23	
शुक्रवार	3	10	17	24	
शनिवार	4	11	18	25	

1) फेब्रुवारी महिना एकूण किती दिवसांचा आहे?

2) कोणकोणत्या तारखेला रविवार आला आहे?

अध्ययन निष्पत्ती क्र. 15

- आम्ही शिकलो : दिनदर्शिकेचे वाचन कसे करावे हे शिकलो.

