



مہاراشٹر وڈیا پرا دھیکرن، پونے ۳۰
تعلیمی ترقی یافتہ مہاراشٹر

تعلیمی ترقی جانچ - مجموعی قدر پیمائی ۲ : ۱۸-۲۰۱۷ء جماعت : دوم - مضمون : ریاضی (تحریری)


طالب علم کا نام : حاضری نمبر

مدرسہ کا نام : فریق :

مرکز : تعلقہ ضلع تاریخ : / / ۲۰۱۸ء

دستخط معلم	حاصل کردہ نمبرات			عملی/زبانی	تحریری					سوال نمبر	
	کل نمبرات	جماعت کی صلاحیت	بنیادی صلاحیت		۵	۴	۳	۲	۱		
											حاصل کردہ نمبرات
	۳۰			۱۰	۴	۴	۴	۴	۴		مختص نمبرات

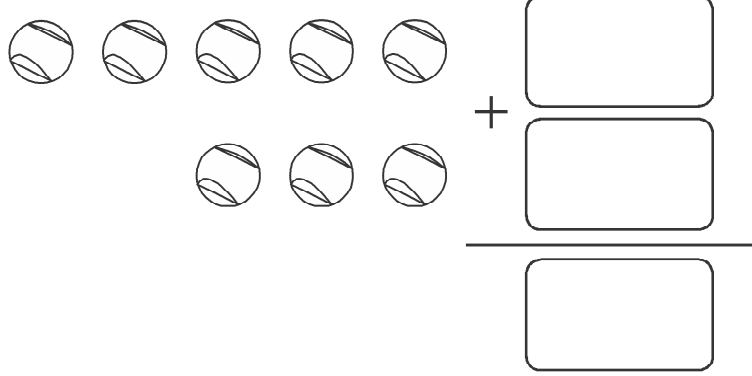
تمام سوالوں کو حل کیا جائے۔ ہر ضمنی سوال کے لیے ایک نمبر ہے۔
س ۱ الف) تصویریں گن کر چوکون میں مناسب عدد لکھو۔



ب) درمیانی عدد لکھو۔


۵		۷
---	--	---

(ج) تصویریں دیکھ کر جمع کی مثال تیار کر کے حل کرو۔



(د) دیے ہوئے اعداد کو ترتیب وار لکھو۔

۵ ، ۲ ، ۴ ، ۳ ، ۶



(س ۲ الف) دیے ہوئے عدد کو لفظوں میں لکھو۔

۱۸

(ب) دیے ہوئے عدد کو ہندسوں میں لکھو۔




تینتیس

(ج) چھوٹے عدد کے اطراف دائرہ بناؤ۔

۴۵ ، ۵۴

(د) جس لفظ کی ضرورت نہ ہو اُسے کاٹ دیں۔

سیب سے آم کی تعداد ۲ سے کم/زیادہ ہے۔



(ب) جمع کرو۔

دہائی	اکائی
۲	۷
+ ۱	۵

(س ۳ الف) جمع کرو۔

دہائی	اکائی
۶	۳
+ ۱	۲

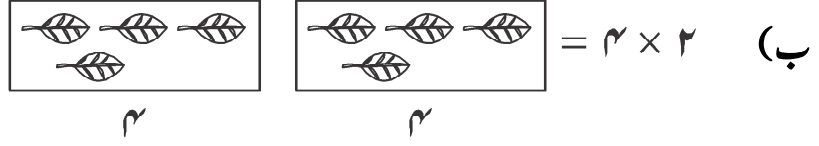
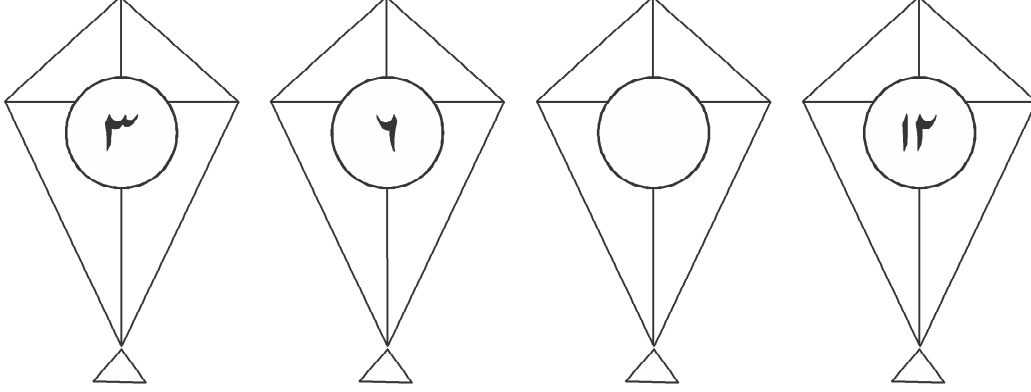
(د) تفریق کرو۔

دہائی	اکائی
۱	۷
-	۸

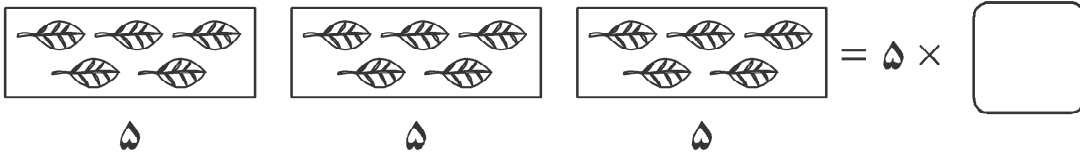
(ج) تفریق کرو۔

دہائی	اکائی
۷	۴
-	۰


س ۴ الف) عددی تواتر مکمل کرو۔



اسی طرح چوکون میں مناسب عدد لکھو۔



تصویر میں مثلثوں کی جملہ تعداد لکھو۔

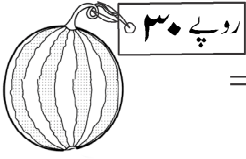


مثلثوں کی تعداد = []

ذیل کے تواتر کو مکمل کرو۔ (د)

○ ○	○○ ○○	○○○ ○○○	○○○○○ ○○○○○
--------	----------	------------	----------------

س ۵ الف) چیز کی قیمت کے لحاظ سے مناسب رقم (نوٹ) والے چوکون میں ✓ کا نشان لگاؤ۔





ب) ذیل کے اعداد کو اُترتی ترتیب میں لکھو۔

۲۴

,

۸۳

,

۳۵

,

,

ج) ایک قلعے میں ۶۳ سیڑھیاں ہیں۔ اس میں سے نجمہ ۳۴ سیڑھیاں چڑھیں تو اور کتنی سیڑھیاں چڑھ کر وہ قلعہ

تک پہنچے گی؟

دہائی	اکائی

(د) کرکٹ کے مقابلے میں شامی نے ۵۱ رن بنائے اور شیکھر نے ۱۹ رن بنائے تو دونوں نے مل کر کل کتنے رن بنائے؟

دہائی	اکائی

