

संच : अ

## दुसरी - गणित (मराठी माध्यम)



महाराष्ट्र विद्या प्राधिकरण, पुणे ३०.

प्रगत शैक्षणिक महाराष्ट्र

शैक्षणिक प्रगती चाचणी

पायाभूत चाचणी २०१७-१८ : इयत्ता - दुसरी

विषय : गणित (लेखी)

विद्यार्थ्यांचे नाव : \_\_\_\_\_

शाळेचे नाव : \_\_\_\_\_ दिनांक : / / २०१७

केंद्र : \_\_\_\_\_ ता. \_\_\_\_\_ जि. \_\_\_\_\_ प्राप्त गुण :

हजेरी क्रमांक :  तुकडी : \_\_\_\_\_ शिक्षकांची स्वाक्षरी \_\_\_\_\_ लेखी गुण :

प्रत्येक प्रश्नास एक गुण आहे. सर्व प्रश्न सोडवावेत.

प्र. १ अ) संख्या अंकात लिही.

१ दशक ८ एकक =

प्र. १ ब) चौकटीत मागची व पुढची संख्या लिही.

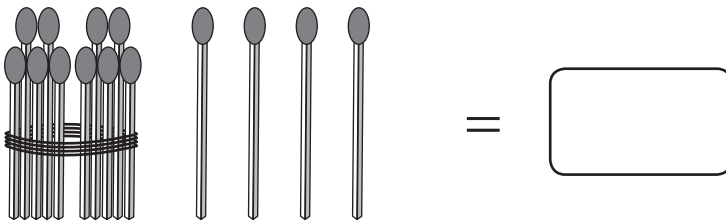
	७	
--	---	--

प्र. १ क) लहान संख्येभोवती गोल कर.

११

१७


प्र. १ ड) काड्यांची संख्या लिही.



पायाभूत चाचणी २०१७-१८ : इयत्ता - दुसरी : विषय - गणित : (१)

संच : अ

प्र. १ इ) बरणीमध्ये किती लाडू आहेत?



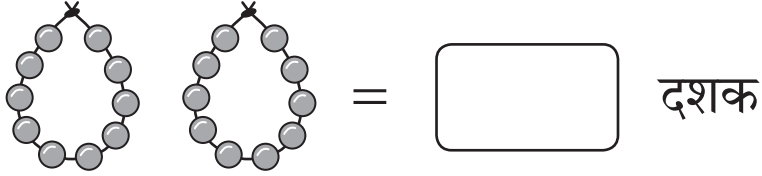
प्र. १ फ) चौकटीत योग्य संख्या लिही.

१२	१३	१४		१६
----	----	----	--	----

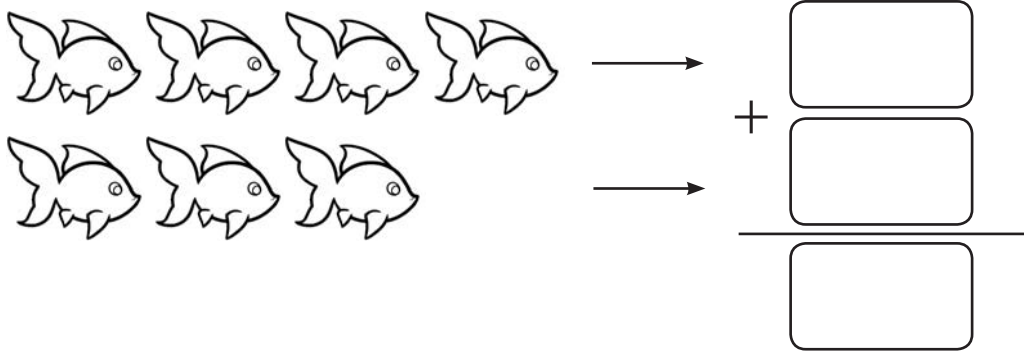
प्र. १ ग) चित्रे मोज. संख्या लिही.



प्र. १ ह) प्रत्येक माळेत १० मणी आहेत तर मण्यांचे किती दशक आहेत ते लिही.



प्र. २ अ) चित्रे मोज. संख्या लिही आणि बेरीज कर.



पायाभूत चाचणी २०१७-१८ : इयत्ता - दुसरी : विषय - गणित : (२)

संच : अ

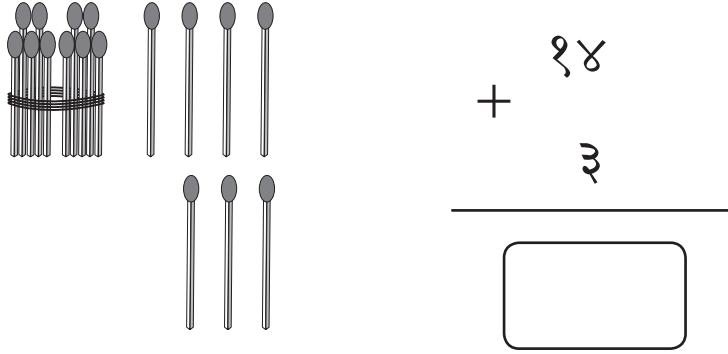
प्र. २ ब) बेरीज कर

$$\begin{array}{r} + 6 \\ 8 \\ \hline \end{array}$$

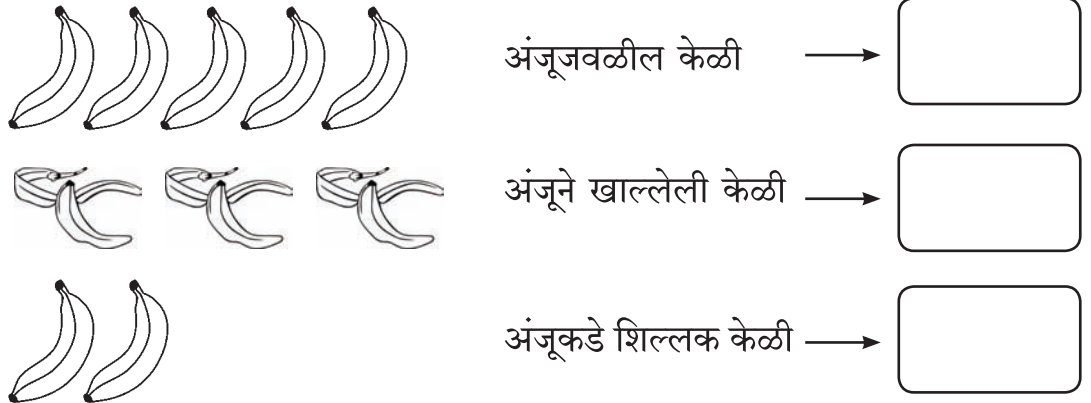
प्र. २ क) रंगविलेल्या मण्यांच्या पुढे न रंगविलेले मणी मोजून एकूण मण्यांची संख्या लिही.



प्र. २ ड)



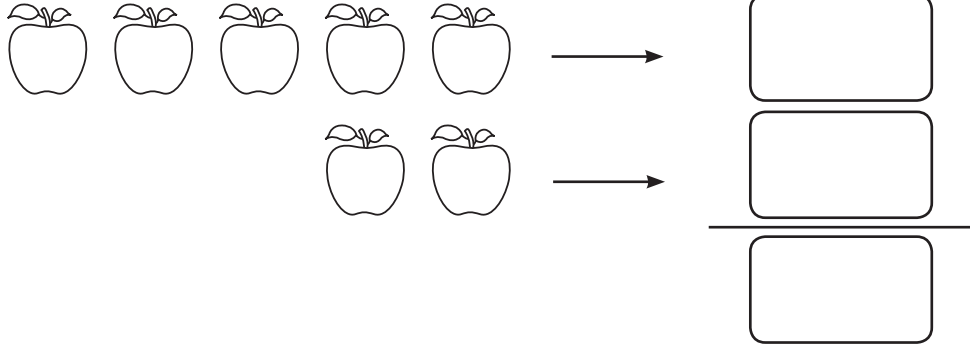
प्र. ३ अ) अंजूजवळ पाच केळी होती. त्यातील तिने तीन केळी खाल्ली तर तिच्याजवळ किती केळी शिल्लक राहिली ?



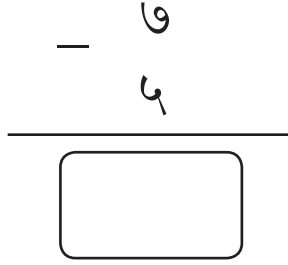
पायाभूत चाचणी २०१७-१८ : इयत्ता - दुसरी : विषय - गणित : (३)

संच : अ

प्र. ३ ब) उदाहरण वजाबाकीचे चिन्ह वापरून लिही.



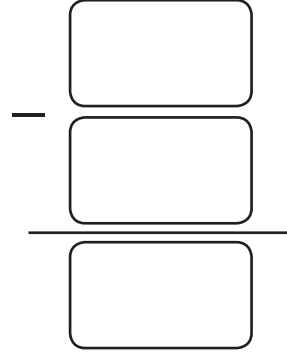
प्र. ३ क) वजाबाकी कर.




प्र. ३ ड) डब्यात चार लाडू होते.

मोनाने दोन लाडू खाल्ले

डब्यात किती लाडू शिल्लक राहिले ?





प्र. ४ अ) टेबलाखालील चेंडूला गोल कर.




पायाभूत चाचणी २०१७-१८ : इयत्ता - दुसरी : विषय - गणित : (४)

संच : अ

प्र. ४ ब) जास्त पेन्सिली असलेल्या गटाखाली ✓ अशी खूण कर.

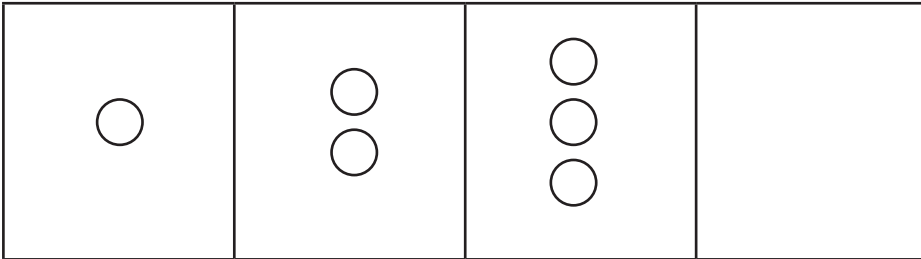


प्र. ५. चित्र तक्ता पहा आणि उत्तरे लिही.



किती मुलांच्या हातात पतंग आहेत?

प्र. ६. आकृतिबंध पूर्ण कर.



पायाभूत चाचणी २०१७-१८ : इयत्ता - दुसरी : विषय - गणित : (५)