

राज्य शैक्षणिक संशोधन व प्रशिक्षण परिषद, महाराष्ट्र
सेतू अभ्यास - पूर्व चाचणी

विषय : गणित



इयत्ता - तिसरी

गुण — १५

विद्यार्थ्यांचे नाव -

प्रश्न १- चित्ररूपातील संख्या अंकांत व अक्षरांत लिही.

गुण १

| दशक | एकक |
|---|--|
|  |  |
| | |
| | |

प्रश्न २- दिलेल्या संख्येच्या लगतची मागची व लगतची पुढची संख्या चौकटीत लिही. गुण १

| | | |
|--|----|--|
| | ७९ | |
|--|----|--|


प्रश्न ३- दिलेल्या संख्या चढत्या व उतरत्या क्रमाने लिही. ६२, ८४, ४८

गुण १

| | |
|------------|--|
| चढता क्रम | |
| उतरता क्रम | |

प्रश्न ४- टप्पा ओळख व संख्या लिही.

गुण १



प्रश्न ५- अजबरावांच्या शेतात ४७ आंब्याची व ३५ निंबाची झाडे आहेत,तर त्यांच्या शेतात एकूण किती झाडे आहेत? गुण १

| दशक | एकक |
|-----|-----|
| | |
| | |
| | |

प्रश्न ६- साक्षीला ८५ रुपये किमतीचे पुस्तक खरेदी करायचे आहे.तिच्याजवळ ३८ रुपये आहेत,तर तिला पुस्तक खरेदी करण्यासाठी अजून किती रुपयांची गरज आहे? गुण १

| दशक | एकक |
|-----|-----|
| | |
| | |
| | |

प्रश्न ७ - दिलेली रक्कम मिळविण्यासाठी कोणत्या नोटा व कोणती नाणी घ्यावी लागतील त्याखालील चौकटीत ✓ अशी खूण कर. गुण १



प्रश्न ८ - तुझ्या घराच्या पायरीसाठी चटई खरेदी करायचे आहे. पायरीची लांबी किती विती आहे, ते मोजून लिही.

गुण १

प्रश्न ९- सर्वात हलक्या वस्तूला रिंण कर.

गुण १



प्रश्न १० - सर्वात जास्त पाणी कोणत्या भांड्यात मावेल, त्या भांड्याखालील चौकटीत $\sqrt{\quad}$ अशी खूण कर.

गुण १



प्रश्न ११- खालील आकृतिबंध पूर्ण कर.

गुण १

| | | | | | | |
|--|--|--|--|--|--|-------|
| | | | | | | |
|--|--|--|--|--|--|-------|

प्रश्न १२- रिकाम्या चौकटी पूर्ण कर.

गुण १



$$\square + \square + \square = \square$$

$$\square \times \square = \square$$

प्रश्न १३- वर्गातील मुलांना आवडणाऱ्या भाज्यांची माहिती खालीलप्रमाणे मांडली.

गुण ३

| भाजीचे नाव | मुलांची संख्या |
|------------|----------------|
| मेथी | |
| बटाटा | |
| वांगी | |
| कारली | |
| शेपू | |

• वरील तक्त्यावरून पुढील प्रश्नांची उत्तरे द्या.

१) कोणती भाजी सर्वात कमी मुलांना आवडते ?

.....

२) वांगी व कारल्याची भाजी किती मुलांना आवडते ?

३) एकूण किती भाज्यांविषयी माहिती दिलेली आहे ?