

राज्य शैक्षणिक संशोधन व प्रशिक्षण परिषद, महाराष्ट्र  
सेतू अभ्यास — पूर्व चाचणी

विषय गणित :

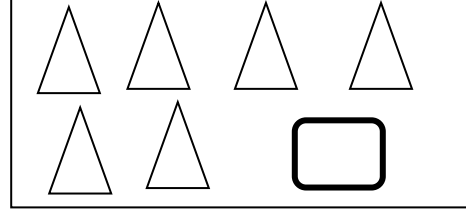

इयत्ता - दुसरी

गुण - १५

विद्यार्थ्यांचे नाव - .....

(प्रत्येक प्रश्न १ गुण)

प्रश्न क्र. १ मोज व लिही.



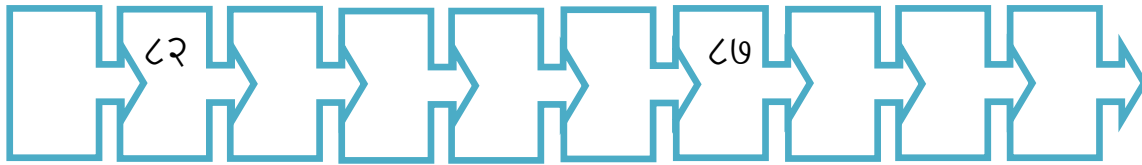
प्रश्न क्र. २ खाली दिलेल्या दोन संख्यांच्या मधली संख्या लिही.

३५		३७
----	--	----

प्रश्न क्र. ३ खाली दिलेल्या संख्येच्या आधीची व नंतरची संख्या लिही.

	५०	
--	----	--


प्रश्न क्र. ४ खालील तोरण पूर्ण कर .




प्रश्न क्र. ५ पुढे दिलेली संख्या दशक व एकक स्वरूपात लिही .

संख्या	दशक	एकक
२६		

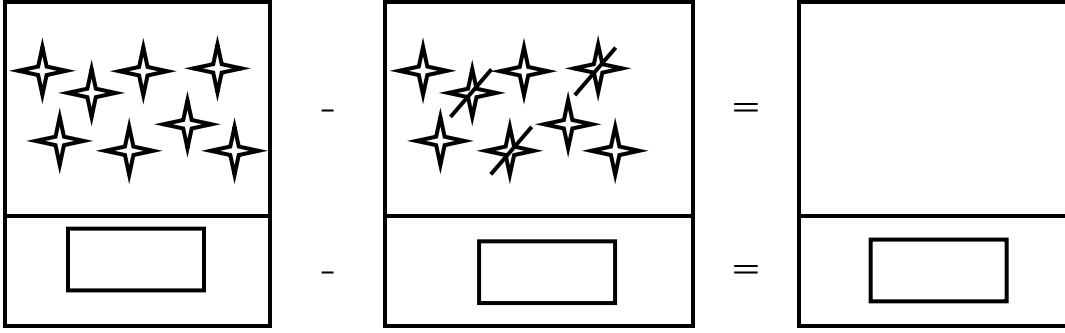
प्रश्न क्र. ६ डब्यांवर योग्य संख्या लिही.



प्रश्न क्र. ७ चित्र बघ व बेरीज कर.



प्रश्न क्र. ८ चित्र बघ व वजाबाकी कर.



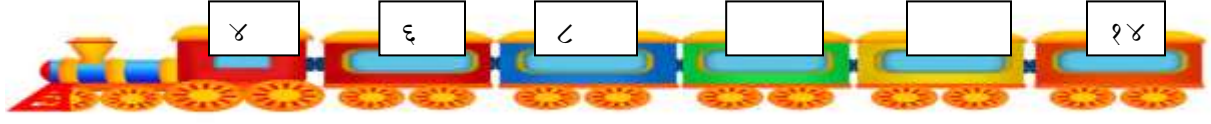
प्रश्न क्र.९ अमोलकडे ४ खडू होते. संगीताने त्याला अजून ३ खडू दिले. आता अमोलकडे एकूण किती खडू झाले?

प्रश्न क्र.१० घरात ९ कप होते.त्यातील २ कप दादाकडून फुटले,तर आता घरात किती कप शिल्लक राहिले?


प्रश्न क्र. ११ लांब पेन्सिल खालील चौकट रंगव .





प्रश्न क्र. १२ या क्रमाने नंतर काय ? क्रम पूर्ण कर.



प्रश्न क्र. १३ पुढील आकार असणाऱ्या आपल्या परिसरात आढळणाऱ्या विविध वस्तूंची नावे लिही.

आकार	वस्तूंची नावे
	

प्रश्न क्र. १४ पुढील रुपये वेगवेगळ्या पद्धतीने नाणी व नोटा वापरून कसे मांडता येईल विचार कर व मांड.

रुपये	 नाणी / नोटा मांडणी 
७ रुपये	

प्रश्न क्र. १५ बुधवार व शुक्रवार यामध्ये कोणता वार येतो त्याखालील चौकटीत ✓ अशी खूण कर.

शनिवार	सोमवार	गुरुवार
<input type="checkbox"/>	<input type="checkbox"/>	<input type="checkbox"/>