

राज्य शैक्षणिक संशोधन व प्रशिक्षण परिषद, महाराष्ट्र, पुणे.

सेतू अभ्यास - उत्तर चाचणी

विषय : गणित

इयत्ता - पाचवी

गुण — १५

विद्यार्थ्यांचे नाव - .....

प्रश्न १. खो-खो स्पर्धेसाठी मनिषाने दिनांक २२ फेब्रुवारी ते २५ फेब्रुवारी पर्यंत खेळाचा

सराव केला, तर तिने एकूण किती दिवस सराव केला?

(गुण १)

.....

प्रश्न २. उदाहरण सोडव.  $४५६४ + ५८७९$

(गुण १)

प्रश्न ३. उदाहरण उभी मांडणी करून सोडव.  $४५२३० - ५४५$

(गुण १)

द	ह	श	द	ए

प्रश्न ४. एका फळबागेत एका रांगेत १२ याप्रमाणे १३ रांगेत आंब्यांची रोपे लावण्यात आली.

तर फळबागेत एकूण किती रोपे लावण्यात आली ?

(गुण १)

प्रश्न ५. एका वाडीतील ५२ कुटुंबांचे सर्वेक्षण करायाचे आहे. प्रत्येक विद्यार्थ्याला चार कुटुंब सर्वेक्षणा-  
साठी दिल्यास एकूण किती विद्यार्थ्यांना सर्वेक्षण करावे लागेल? (गुण १)

प्रश्न ६. सोडव.

(गुण १)

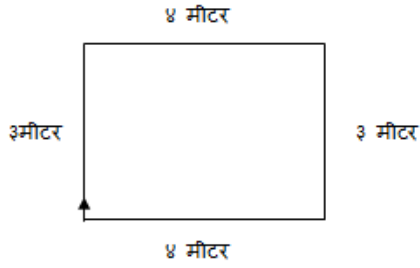
८) ८६४

प्रश्न ७. राणीजवळ काही रुपये होते. त्यात १० च्या पाच नोटा व ५० च्या तीन नोटा होत्या. तर  
तिच्याजवळ एकूण किती रुपये होते? (गुण १)

प्रश्न ८. ५३२० या संख्येत तीन दशक आणि पाच शतक मिळविल्यास उत्तर किती येईल? (गुण १)

प्रश्न ९. दिलेल्या आकृतीची परिमिती किती?

(गुण १)



उत्तर : .....

प्रश्न १०. निरीक्षण कर आणि दिलेली एकूण रक्कम किती ते चौकटीत लिही.

(गुण १)



₹

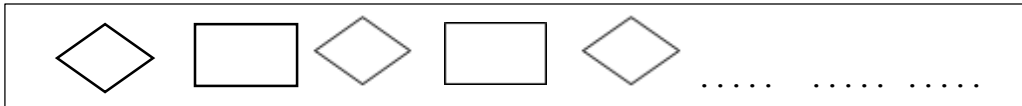
प्रश्न ११ . दिलेला अपूर्णाक शब्दात लिही.

(गुण १)

$2\frac{3}{8}$  .....




प्रश्न १२. खालील आकृतिबंध पूर्ण कर .


(गुण १)



प्रश्न १३. खालील सारणीचे निरीक्षण करून उत्तरे लिही.

(गुण २)

पिके	कुटुंब
गहू	
ज्वारी	
हरभरा	

 म्हणजे १० कुटुंब

• ज्वारीचे पीक घेणारी कुटुंबे किती ?

• हरभरा आणि ज्वारीचे पीक घेणारी कुटुंबे एकत्रित केल्यास गव्हाचे पीक घेणाऱ्या कुटुंबांपेक्षा कितीने जास्त असतील ?

प्रश्न १४. खालील चौकटीत प्रश्नचिन्हाच्या जागी कोणती संख्या येईल ते लिहून उदाहरण सोडव.

(गुण १)

x	३०	२
२०	?	४०
४	१२०	८