

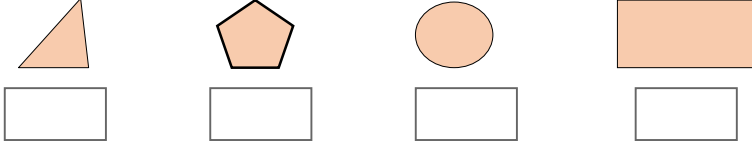
राज्य शैक्षणिक संशोधन व प्रशिक्षण परिषद, महाराष्ट्र, पुणे.
सेतू अभ्यास - उत्तर चाचणी

विषय : गणित
विद्यार्थ्यांचे नाव -

इयत्ता - चौथी

गुण — १५

प्रश्न १. खालीलपैकी कोणती आकृती आयत आहे? त्याखालील चौकटीत ☉ चिन्ह काढ. (गुण १)



प्रश्न २. ५० दशक आणि १३३ एकक मिळून कोणती संख्या तयार होते ते लिही. (अंकांत आणि अक्षरांत)

(गुण १)

प्रश्न ३. खालील उदाहरणे सोडव.

(गुण २)

१) ६५८

+ २९९

२) ७३४

- ४५१

प्रश्न ४. घड्याळात ९ वाजून ४५ मिनिटे या वेळेची काट्यांची स्थिती खालील घड्याळात दाखव.

(गुण १)



प्रश्न ५. अक्षताकडे २०० रुपयाच्या २ नोटा , ५० रुपयाच्या ४ नोटा व २ रुपयांची ८ नाणी आहेत,
तर तिच्याकडे एकूण किती रुपये आहेत ? (गुण १)



उत्तर :- अक्षताकडे एकूण ₹

प्रश्न ६. एका बसमध्ये ४० व्यक्ती प्रवास करू शकतात तर २५ बसमध्ये एकूण किती व्यक्ती प्रवास करू शकतील? (गुण १)

प्रश्न ७. ९० सफरचंद १० पेट्यांमध्ये समान भरले, तर प्रत्येक पेटीत किती सफरचंद असतील? (गुण १)

प्रश्न ८. समृद्धीकडे ४२ बिया आहेत. तिने एका रांगेत ६ बिया लावल्या तर तिच्याकडील सर्व बिया किती रांगेत लावून पूर्ण होतील? (गुण १)

प्रश्न ९. पुढील आकृतिबंध पूर्ण करा. (गुण १)

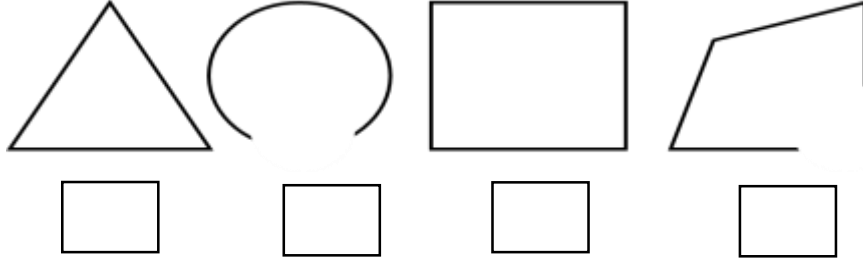
△ △	△ △ △	△ △	△ △ △		
-----	-------	-----	-------	--	--

प्रश्न १०. खाली दिलेल्या आकृत्या सममित आहेत का ते ठरव. सममित आकृतीच्या खालील चौकटीत ✓ अशी खूण कर. (गुण १)

A	E	G	F	J
<input type="checkbox"/>	<input type="checkbox"/>	<input type="checkbox"/>	<input type="checkbox"/>	<input type="checkbox"/>

प्रश्न ११. खालील पैकी कोणत्या आकृत्या खुल्या आहेत त्या खालील चौकटीत ☺ असे चिन्ह काढ.

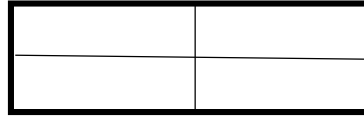
(गुण १)



प्रश्न १२. दिलेल्या अपूर्णाकाएवढा अपूर्णाक आकृतीमध्ये रंगव.

(गुण १)

पाऊण



प्रश्न १३. दिलेल्या तक्त्यातील माहितीचे निरीक्षण करून त्यावर आधारित प्रश्नांची उत्तरे चौकटीत लिही.

(गुण २)

वर्ग वाचनालयातील पुस्तकांची माहिती.

पुस्तकांचा प्रकार	पुस्तके
बडबडगीते	
साहसी कथा	
विनोदी कथा	
कवितासंग्रह	

• वर्ग वाचनालयातील पुस्तकांची एकूण संख्या किती आहे?

• बडबडगीते आणि विनोदी कथा या पुस्तकांच्या संख्येतील फरक किती आहे ?