

राज्य शैक्षणिक संशोधन व प्रशिक्षण परिषद, महाराष्ट्र, पुणे.

सेतू अभ्यास - उत्तर चाचणी

विषय : गणित

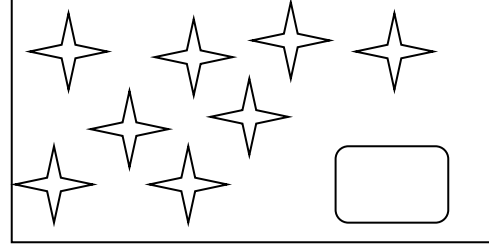

इयत्ता - दुसरी

गुण - १५

विद्यार्थ्यांचे नाव -

(प्रत्येक प्रश्न १ गुण)

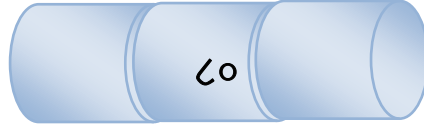
प्रश्न १. मोज व लिही.



प्रश्न २. खाली दिलेल्या दोन संख्यांच्या मधली संख्या लिही.



प्रश्न ३. खाली दिलेल्या संख्येच्या आधीची व नंतरची संख्या लिही.



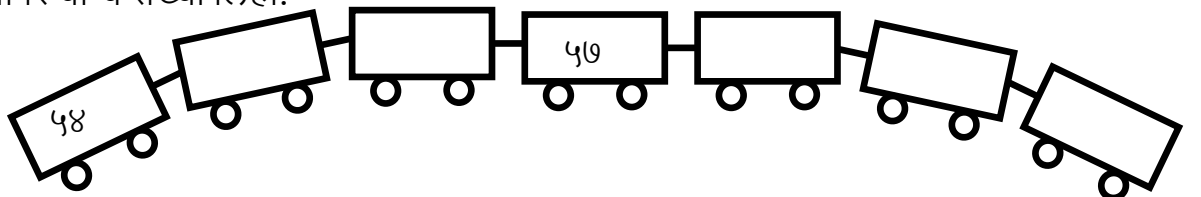
प्रश्न ४. खालील तोरण पूर्ण कर .



प्रश्न ५. पुढे दिलेली संख्या दशक व एकक स्वरूपात लिही .

संख्या	दशक	एकक
३८		

प्रश्न ६. डब्यांवर योग्य संख्या लिही.



प्रश्न ७. बेरीज कर.

$$\begin{array}{r} 6 \\ + 2 \\ \hline \end{array}$$


प्रश्न ८. वजाबाकी कर.

$$\begin{array}{r} 9 \\ - 4 \\ \hline \end{array}$$

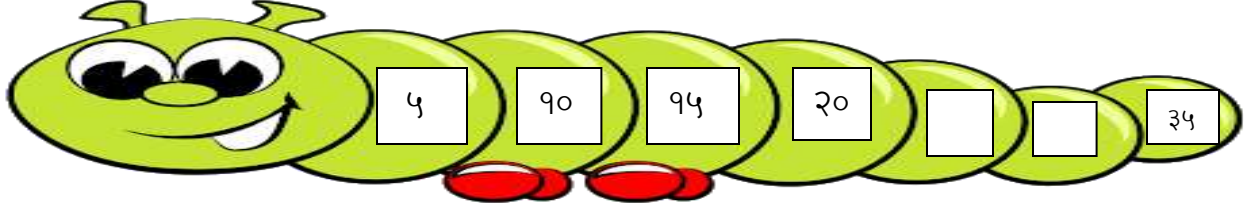
प्रश्न ९. निलेशने आंब्याची ५ झाडे लावली रियाने नारळाची ४ झाडे लावली. तर दोघांनी मिळून किती झाडे लावली ?

प्रश्न १०. सुमनकडे ८ रुपये होते. तिने त्यातील ३ रुपयांची पेन्सिल विकत घेतली, तर सुमनकडे किती रुपये शिल्लक राहिले ?

प्रश्न ११. खालीलपैकी कोणते वाहन निश्चित ठिकाणी कमी वेळेत पोहचेल त्या वाहनाशेजारील चौकट रंगव.



प्रश्न १२. क्रम पूर्ण कर.



प्रश्न १३.पुढील आकार असणाऱ्या आपल्या परिसरात आढळणाऱ्या विविध वस्तूंची नावे लिही.

आकार	वस्तूंची नावे
<input type="checkbox"/>

प्रश्न १४.पुढील रुपये वेगवेगळ्या पद्धतीने कसे मांडता येईल विचार कर व मांड.

रुपये	मांडणी
९ रुपये	

प्रश्न १५.रविवार व मंगळवार यामध्ये कोणता वार येतो त्याखालील चौकटीत \checkmark अशी खूण कर.

