

برج کورس 2023 - سماجی علوم - آٹھویں جماعت - پیشگی جانچ (Pre Test)

جماعت: آٹھویں (VIII) نمبرات: 30/.....

طالب علم کا نام: حاضری نمبر:

اسکول کا نام: تاریخ:

س 1 (الف): باہمی تعلق تلاش کر کے لکھیے۔ (07.73H.10) (2)

(1) مہاتما سویشور: کرناٹک :: سنت میرا بانی:

(2) رامانند: شمالی بھارت :: چیتنیہ مہاپربھو:

س 1 (ب): مندرجہ ذیل خانوں میں چھپے ہوئے تاریخی ماخذ کے نام تلاش کر کے لکھیے۔ (2)

ع	ن	ت	ر	ب	ش	د	ج	س	م
ج	م	ا	ط	پ	ز	ن	ی	ل	ق
ن	ی	ر	ی	د	ص	ت	ی	گ	ب
ن	ا	ی	ن	ا	ہ	ک	پ	ن	ر
ع	د	خ	ر	ط	ڑ	تھ	س	ب	ے
ے	ر	پ	ک	ے	س	ا	ب	ل	ب

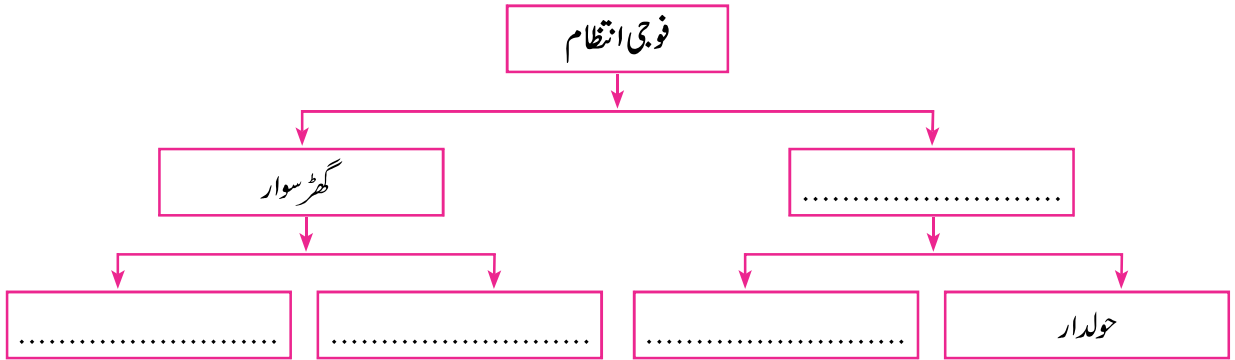
س 2 (الف): جوڑیاں لگائیے۔ (07.73H.06) (5)

گروپ 'الف' خاندان	جوابات	گروپ 'ب' مقام
(1) پال	(الف) تامل ناڈو
(2) راجپوت	(ب) کرناٹک
(3) چول	(ج) شمالی بھارت
(4) ہونیسل	(د) بنگال

- (4) س 2 (ب) : تصور واضح کیجیے۔ (کوئی ایک) (07.73H.05)
 (1) پانی پت کی لڑائی
 (2) اٹک پر مراٹھوں کا پرچم لہرایا۔

- (2) س 3 (الف) : مندرجہ ذیل واقعات کو زمانی ترتیب میں لکھیے۔ (07.73H.03)
 (1) شیواجی مہاراج کی جنوبی مہم
 (2) لال محل پر حملہ
 (3) آگرہ سے فرار
 (4) تاج پوشی
 (5) پرندرا کا معاہدہ
 (6) شاستہ خان پر حملہ

- (2) س 3 (ب) : مندرجہ ذیل خاکہ مکمل کیجیے۔ (07.73H.07)



- (4) س 4 (الف) : تصور کی وضاحت کیجیے۔ (کوئی ایک)
 (1) عوامی جمہوریہ (07.73H.17)
 (2) یوم دستور (07.73H.18)

- (4) س 4 (ب) : سوال کا جواب لکھیے۔ (کوئی ایک) (07.73H.16)
 (1) انتخابات کا انعقاد کرنے والا ادارہ :
 (2) جج کا تقرر کون کرتا ہے؟

س 5 (الف) : قوسین کے متبادل کی مدد سے خانہ پُری کیجیے۔

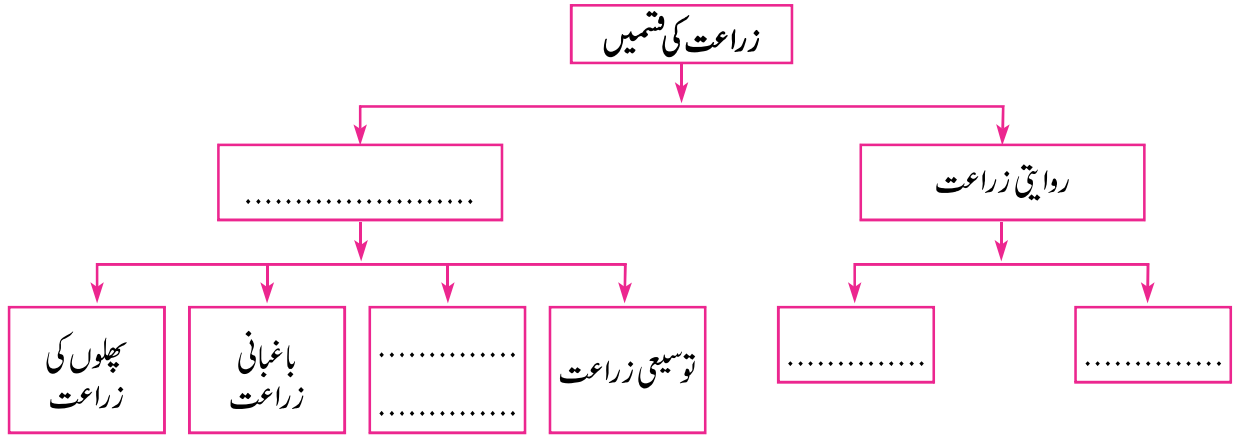
(2)

(1) بلندی پر ہوا..... ہوجاتی ہے۔ (بھاری ، ہلکی) (07.73G.07)

(2) کپاس کی مٹی کے نام سے معروف یہ مٹی کی ایک قسم ہے۔ (07.73G.07)
(موٹی خشک مٹی ، کالی مٹی ، جان بھی مٹی)

س 5 (ب) : مندرجہ ذیل خاکہ مکمل کیجیے۔ (07.73G.14)

(2)



س 6 (الف) : جغرافیائی وجوہات لکھیے۔ (کوئی دو)

(4)

(1) مدد جزر پرسورج کے مقابلے میں چاند زیادہ اثر انداز ہوتا ہے۔ (07.73G.12)

.....
.....

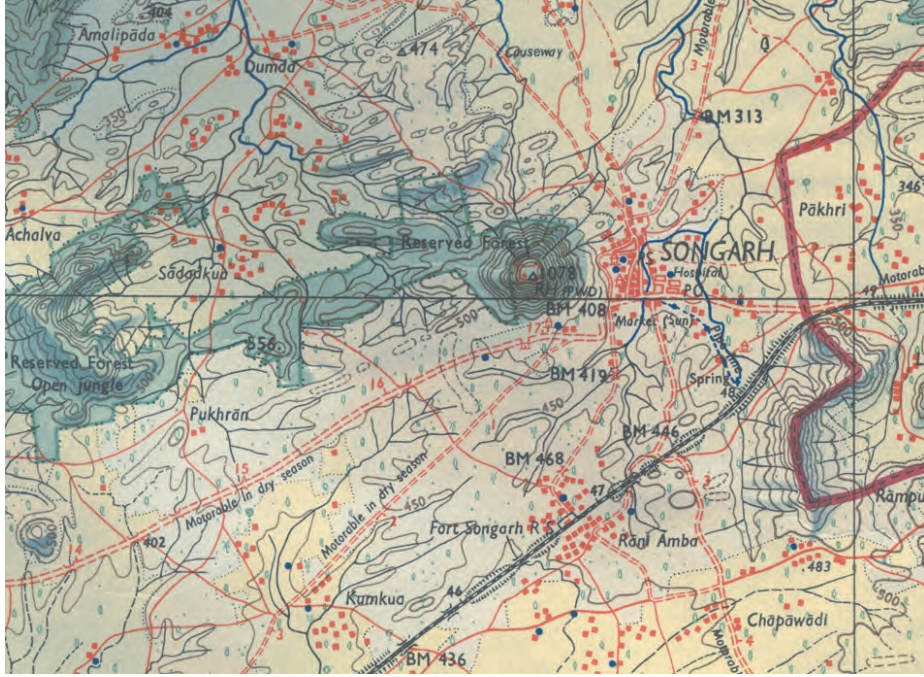
(2) مویشی پالنے کا پیشہ زراعت کے لیے معاون ثابت ہوتا ہے۔ (07.73G.14)

.....
.....

(3) دونوں نصف کروں کے قطبی علاقوں میں ہوا کا دباؤ زیادہ ہوتا ہے۔ (07.73G.07)

.....
.....

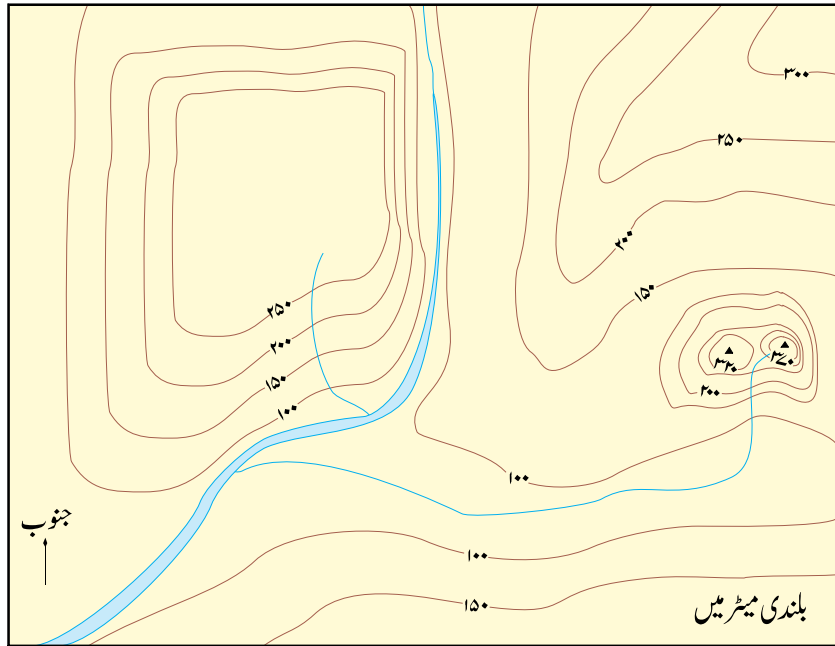
س 6 (ب) : ذیل کے نقشے کا مشاہدہ کیجیے اور اس کے لیے مناسب اشاریہ بنائیے۔ (07.73G.06)



اشاریہ:

نمبر شمار	عصر	علامت	نمبر شمار	عصر	علامت
(1)			(4)		
(2)			(5)		
(3)					

س 7 : درج ذیل نقشے میں زمینی شکلیں پہچانیے۔ (07.73G.22)



برج کورس - مضمون : سماجی علوم - آٹھویں جماعت - پیشگی جانچ : (4)