

برج کورس ۲۰۲۳ء - سماجی علوم - ساتویں جماعت - بعد کی جانچ (Post Test)

جماعت : ساتویں (VII) کل نمبرات : 30/.....

طالب علم کا نام : حاضری نمبر :

اسکول کا نام : تاریخ :

(کل نمبرات 18)

تاریخ، شہریت

(3)

سوال ۱ : ایک جملے میں جواب لکھیے۔

(۱) 'تری سمر توئے پت واہن' کا مطلب لکھیے۔ (06.73H.04)

.....
.....

(۲) بھارتی ثقافت کی بنیاد کس نے رکھی؟ (06.73H.05)

.....
.....

(۳) کولہا پور کا قدیم نام کیا تھا؟ (06.73H.04)

.....
.....

(4)

سوال ۲ : درج ذیل سوالوں کے جواب لکھیے۔

(۱) چتورنگا فوج اور موجودہ فوج میں کیا فرق ہے؟ (06.73H.04)

.....
.....

(۲) دہلی کے قریب مہرولی میں لوہے کے ستون کو قدیم بھارتیوں کی تکنیکی ترقی کی علامت کیوں سمجھا جاتا ہے؟

.....
.....

سوال ۶ : ذیل کے حالات میں آپ کیا کریں گے؟ (06.73H.23) (3)

(۱) اپنے گھر کا کچرا اٹھانے والے کو کچرا دیتے وقت ...

.....

(۲) پڑوسی شخص گاڑیاں دھونے کے لیے پینے کا پانی استعمال کر رہے ہیں ...

.....

(۳) آپ کے علاقے میں پینے کا پانی گندہ آنے لگے ...

.....

(کل نمبرات 12)

جغرافیہ

سوال ۱ : ایک جملے میں جواب لکھیے۔ (4)

(۱) مہاراشٹر میں پائے جانے والے پتھروں کی اقسام لکھیے۔ (06.73G.13)

.....

(۲) بنیادی پیشوں کی تین مثالیں دیجیے۔ (06.73G.19)

.....





(۳) خبروں کا نیٹ ورک کیسے بنتا ہے؟ (06.73G.02)

.....

(۴) ہوا کے اہم اجزا کیا ہیں؟ (06.73G.05)

سوال ۲ : مناسب جوڑیاں لگائیے۔

(4)

گروہ 'ب'	گروہ 'الف'	نمبر شمار
	کھارے پانی سے ملنے والی اشیا (06.73G.16)	(۱)
	درجہ حرارت کی پیمائش (06.73G.05)	(۲)
	توانائی کے وسائل (06.73G.17)	(۳)
	قدرتی وسائل (06.73G.16)	(۴)

سوال ۳ : درج ذیل سوالوں کے جواب لکھیے۔ (4)

(۱) درج ذیل پتھروں کی درجہ بندی ان کی اقسام کے مطابق کیجیے۔ (06.73G.13)

(بسالت ، ریت کے پتھر، پیوس ، چن کھڑی ، ہیرا ، سنگ مرمر)

تبدیل شدہ چٹان	تہہ دار چٹان	آتشی چٹان	چٹان کی قسم
.....	(۱)
.....	(۲)

(۲) ان ممالک کے نام لکھیے جن سے خطِ استوا گزرتا ہے۔ (06.73G.03)

.....

(۳) سرد آب دہوا کے علاقے میں کون کون سے پیشے کیے جاسکتے ہیں؟ (06.73G.19)

.....

(۴) بجلی کی بچت کرنے کے لیے آپ کیا کریں گے؟ (06.73G.17)

.....

.....