

برج کورس 2023 - جنرل سائنس - چھٹی جماعت - بعد کی جانچ (Post Test)

حاصل کردہ نمبرات:

کل نمبرات: 30

جماعت: چھٹی (VI)

طالب علم کا نام: حاضری نمبر:

اسکول کا نام: تاریخ:

ہدایات: (1) تمام سوالات حل کرنا لازمی ہے۔ (2) بائیں جانب قوس میں درج عدد نمبرات کو ظاہر کرتے ہیں۔

س 1: مناسب متبادل کا انتخاب کر کے خالی جگہوں کو پُر کیجیے۔ (05.95A.05) (5)

- (1) سورج ایک ہے۔ (سیارہ ، ستارہ ، ذیلی سیارہ ، سیارچہ)
- (2) گیس سورج سے آنے والی بالائے بنفشی شعاعوں کو جذب کر لیتی ہے۔
(آکسیجن ، کاربن ڈائی آکسائیڈ ، اوزون ، ہائیڈروجن)
- (3) آلو میں غذائی جز پایا جاتا ہے۔ (چربی ، وٹامن ، نشاستہ ، ریشے دارشے)
- (4) توانائی کا نہ ختم ہونے والا ذریعہ ہے۔ (پیٹرول ، کوئلہ ، ہوائی توانائی ، معدنی تیل)
- (5) گاجر ، چغندر ، مولی جیسی نباتات میں غذا ذخیرہ کرتی ہیں۔ (جز ، تنے ، پتے)


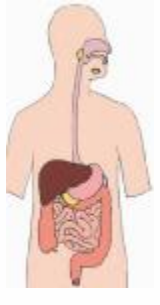
س 2: غیر متعلقہ لفظ الگ کیجیے۔ (05.95.05) (4)

- (1) خشک کرنا ، سرد کرنا ، اُبالنا ، بھگوننا۔
- (2) گاجر ، چغندر ، مولی ، آم۔
- (3) لعاب دہن کے غدود ، مری ، نتھنے ، جگر۔
- (4) شمسی توانائی ، سی این جی ، ہوا کی توانائی ، آبی توانائی۔

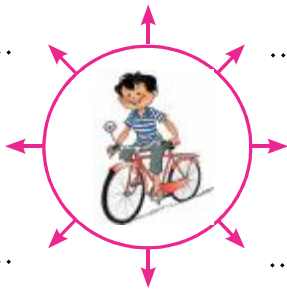
س 3: ایک لفظ میں جواب لکھیے۔ (05.95A.06) (4)

- (1) گھر میں ٹی وی چلانے کے لیے کس توانائی کی ضرورت ہوتی ہے؟
- (2) جوار میں کون سا اہم غذائی جز زیادہ مقدار میں پایا جاتا ہے؟
- (3) زمین سے قریب ترین ستارہ کون سا ہے؟
- (4) ضلع سولاپور کس قسم کے کپڑے بنانے کے لیے مشہور ہے؟

س 4 : درج ذیل عضوی نظام کے نام اور ان کے اہم اعضا کے نام لکھیے۔ (05.95A.06)

<p>(2)</p> <p>.....</p> <p>.....</p> <p>.....</p> <p>.....</p> <p>.....</p>		<p>(1)</p> <p>.....</p> <p>.....</p> <p>.....</p> <p>.....</p> <p>.....</p>	
---	---	---	---

س 5 : سائیکل کے استعمال کے مختلف فائدے لکھیے۔ (05.95A.10)



.....

.....

.....

.....

.....

س 6 : ایسا کیوں ہوا؟ (05.95A.06)

(1) بھارتی چیتا معدوم ہو چکا ہے۔

.....

.....

(2) کھلا رکھا ہوا کھانا خراب ہو گیا۔

.....

.....

- (4) س 6 : کیا ہوگا لکھیے۔ (05.95A.09) زمین پر روایتی توانائی کے ذرائع ختم ہو گئے۔

.....

.....

(2) زراعت کے لیے روایتی طریقے سے ہی پانی کا استعمال کیا گیا۔

.....

.....

- (3) س 8 : نیچے دی گئی تصویروں کا مشاہدہ کر کے جواب لکھیے۔ (05.95A.08) (05.95A.09)



(1) تصویر میں کون کون سے سماجی مسائل دکھائے گئے ہیں؟

.....

.....

(2) مندرجہ بالا سماجی مسائل کے پیچھے کی وجوہات لکھیے۔

.....

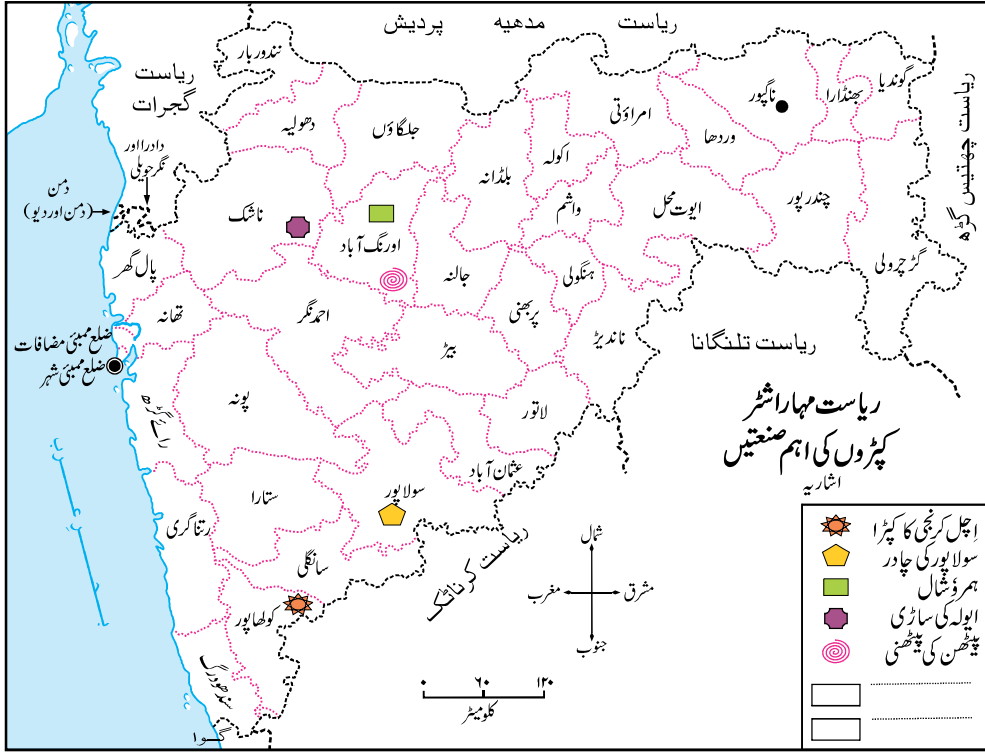
.....

(3) درج بالا سماجی مسائل کے حوالے سے بیداری پیدا کرنے کے لیے دو نعرے بنا کر لکھیے۔

..... (i)

..... (ii)

س 9 : نیچے دیے گئے نقشے کا مشاہدہ کیجیے اور پوچھے گئے سوالوں کے جواب لکھیے۔ (05.95A.13) (2)



(1) ہموشالیں اور پٹھنی ساڑھی کے لیے مشہور ضلع کا نام لکھیے۔

.....

(2) ضلع ناسک کون سے لباس کے لیے مشہور ہے؟

.....

.....