

برج کورس ۲۰۲۳ء - ریاضی - چوتھی جماعت - بعد کی جانچ (Post Test)

20

کل نمبرات:

جماعت: چوتھی (IV)

طالب علم کا نام: حاضری نمبر:

اسکول کا نام: تاریخ:

سوال ۱: ذیل میں دی گئی اشکال کے نام لکھو۔ (02)



سوال ۲: ذیل میں دی گئی تعداد کو ہندسوں میں اور لفظوں میں لکھو۔ (02)

لفظوں میں

ہندسوں میں

..... (۱) ۴ سیکڑہ ۵ دہائی ۰ اکائی ←

..... (۲) ۹ سیکڑہ ۰ دہائی ۶ اکائی ←

سوال ۳: درج ذیل مثالیں حل کرو۔ (02)

	س	د	ا
+			

لال گیندیں
نیلی گیندیں
کل گیندیں

(۱) ۱۳۵ لال گیندیں اور
۲۵۷ نیلی گیندیں ملا کر
کل کتنی گیندیں ہوں گی؟

-			

کل آم
خراب آم
اچھے آم

(۲) ۵۶۵ آم میں سے ۳۷۶ آم
خراب نکلے تو اچھے آم کتنے؟

سوال ۴ : (۱) دیے ہوئے عدد کو توسیعی شکل میں لکھو۔

(02)

$$510 = \boxed{} + \boxed{} + \boxed{}$$

(۲) توسیعی شکل کی مدد سے عدد لکھو۔

$$800 + 6 = \boxed{}$$

سوال ۵ : ۶۰۵ ، ۵۱۹ ، ۸۳۶ ، ۲۰۸ ، ۴۷۹ ان اعداد کو چڑھتی ترتیب اور اترتی ترتیب میں لکھو۔

(02)

(۱) چڑھتی ترتیب :

(۲) اترتی ترتیب :

سوال ۶ : ذیل میں پوچھے گئے سوالوں کے جواب لکھو۔

(02)

(۱) صائمہ کے پاس ۵۰۰ روپے کی ایک نوٹ اور ۲۰۰ روپے کے دونوٹ ہیں تو صائمہ کے پاس کل کتنے روپے ہیں؟

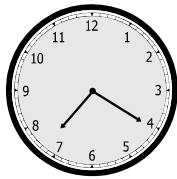
کل روپے

(۲) فرحان کے پاس ۲۰۰ روپے کی ایک نوٹ، ۵۰ روپے کے تین نوٹ اور ۲۰ روپے کے ۶ نوٹ ہیں تو فرحان کے پاس کل کتنے روپے ہیں؟

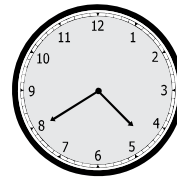
کل روپے

سوال ۷ : گھڑی میں کتنے بجے ہیں لکھو۔

(02)



(۲)

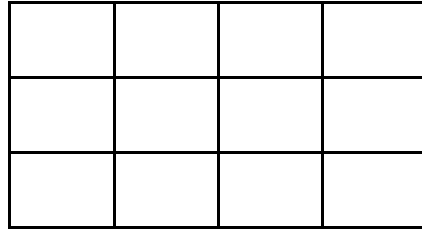
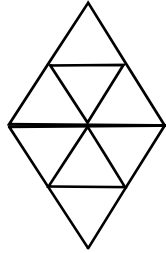


(۱)

سوال ۸ : ذیل میں دی ہوئی شکلوں کے حصوں میں رنگ بھرو۔

(02)

(۱) پون حصے میں رنگ بھرو۔ (۲) آدھے حصے میں رنگ بھرو۔



سوال ۹ : ذیل کی مثالیں حل کرو۔ (ہر ایک کے لیے ایک نمبر)

(02)

(۱) ایک بیاض کی قیمت ۳۵ روپے ہے تو ۹ بیاضوں کی قیمت کتنی ہوگی؟

(۲) ۲۴ پھولوں کو ۶ ٹوکریوں میں مساوی طور پر رکھنا ہے تو ہر ٹوکری میں کتنے پھول رکھے جائیں گے؟

سوال ۱۰ : خالی چوکون میں مناسب جواب لکھو۔

(02)

(۱) ۳۰۰ سم = میٹر

(۲) ۴ کلوگرام = گرام

(۳) پاؤلٹر = ۳ ملی لٹر

(۴) میٹر = ۴ آدھا کلو میٹر