

برج کورس ۲۰۲۳ء - ریاضی - دوسری جماعت - بعد کی جانچ (Post Test)

20


کل نمبرات:

جماعت: دوسری (II)

طالب علم کا نام: ..... حاضری نمبر: .....

اسکول کا نام: ..... تاریخ: .....

سوال ۱: چوکونوں کی تصویروں کو گنو اور مناسب عدد کے گرد دائرہ بناؤ۔ (02)



کھریا ۸ ۱ ۹ ۵



چھتیریاں ۳ ۵ ۸ ۴

سوال ۲: دیے ہوئے دو عددوں کے بیچ کا عدد لکھو۔ (01)

۴۸		۵۰
----	--	----

سوال ۳: دیے ہوئے عدد سے پہلے فوراً آنے والا عدد اور بعد میں فوراً آنے والا عدد لکھو۔ (01)

	۶۰	
--	----	--

سوال ۴: دیا ہوا عددی سلسلہ مکمل کرو۔ (02)

	۲۱		۲۲	
	۵۰		۵۳	

سوال ۵: دیے ہوئے عدد کو دہائی اور اکائی کی صورت میں لکھو۔ (01)

تصویر	عدد	دہائی	اکائی


(02)

سوال ۶ : سلسلہ وار آنے والا عدد لکھو۔

	۳۹						
	۸۰						

(02)

سوال ۷ : جمع کرو۔




سوال ۸ : سمیر کے پاس ۵ امرود تھے۔ کریم نے اسے ۳ امرود اور دیے۔ اب سمیر کے پاس کل کتنے امرود ہو گئے؟

(03)

(02)

سوال ۹ : تفریق کرو۔



سوال ۱۰ : امن کے پاس ۸ کھریا ہیں اور زویا کے پاس ۲ کھریا ہیں تو امن کے پاس زویا سے کتنے کھریا زیادہ ہیں؟

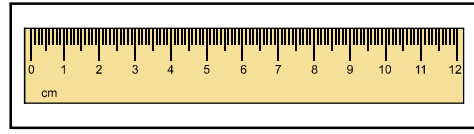
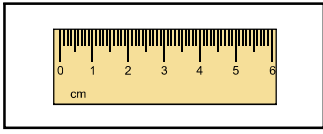

امن کے پاس کھریا

زویا کے پاس کھریا

امن کے پاس زیادہ کھریا

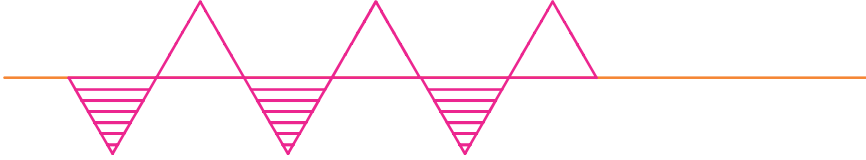
سوال ۱۱ : لمبی پٹی کے سامنے کے چوکون میں (✓) کا نشان بناؤ۔

(01)



(01)

سوال ۱۲ : تواتر کو آگے بڑھاؤ۔



(01)

سوال ۱۳ : دی ہوئی شکل کی جو چیزیں تمہارے آس پاس موجود ہیں، ان کے نام لکھو۔  
شکل کے نام



(01)

سوال ۱۴ : دیے ہوئے سکوں کو استعمال کر کے دی ہوئی رقم کو الگ طریقے سے تیار کرو۔  
(متبادل ۱ کو حل کر کے دکھایا گیا ہے)

سکہ	₹ 1 2002	₹ 2 2018	₹ 5 2018
	متبادل ۱		متبادل ۲
رقم ۵ روپے	₹ 1 2002	₹ 1 2002	₹ 1 2002
	₹ 1 2002	₹ 1 2002	

سوال ۱۵ : جمعہ اور اتوار کے بیچ میں نیچے دیے ہوئے دنوں میں سے آنے والے دن کے سامنے (✓) کا نشان لگاؤ۔

(01)

