




राज्य शैक्षणिक संशोधन
व प्रशिक्षण परिषद,
महाराष्ट्र, पुणे.

निपुण भारत अभियान



पंख चिमण्यांचे फडफडती, मोजा फळे आहेत किती?



शाळा
चिमण्यांची

चित्र		●	●●	●●●	●●●●	●●●●●	●●●●●●	●●●●●●●	●●●●●●●●	●●●●●●●●●	●●●●●●●●●●
संख्या	०	१	२	३	४	५	६	७	८	९	१०
संख्यानाम	शून्य	एक	दोन	तीन	चार	पाच	सहा	सात	आठ	नऊ	दहा
Number	0	1	2	3	4	5	6	7	8	9	10
Number Name	Zero	One	Two	Three	Four	Five	Six	Seven	Eight	Nine	Ten



राज्य शैक्षणिक संशोधन
व प्रशिक्षण परिषद,
महाराष्ट्र, पुणे.

निपुण भारत अभियान



आकारांची गंमत भारी, शोधायला दाखवा हुशारी!





राज्य शैक्षणिक संशोधन
व प्रशिक्षण परिषद,
महाराष्ट्र, पुणे.

निपुण भारत अभियान



मागे-पुढे, वर-खाली, लांब-आखूड शिकूया मस्त!
लहान-मोठा, जड-हलका, शोधूया वस्तू कमी-जास्त!














राज्य शैक्षणिक संशोधन
व प्रशिक्षण परिषद,
महाराष्ट्र, पुणे.

निपुण भारत अभियान



होत्या किती? राहिल्या किती? मोजा बरे उंदराची शेपटी!






राज्य शैक्षणिक संशोधन
व प्रशिक्षण परिषद,
महाराष्ट्र, पुणे.







निपुण भारत अभियान



आहे किती ही दुनिया न्यारी,
सामावली ज्यात गणिती क्रिया सारी!



चित्राचे निरीक्षण करून पुढील प्रश्नांची उत्तरे द्या.

१. फळ विक्रेत्याजवळ किती प्रकारची फळे आहेत?
२.  व  यांची एकूण संख्या किती?
३.  पेक्षा  कितीने जास्त आहेत?
४.  पेक्षा  कितीने जास्त आहेत?
५. दोन मुलींना पेरू समान वाटले, तर प्रत्येकीला किती पेरू मिळतील?
६. चारही मुलांना संत्री समान वाटली, तर प्रत्येकाला किती संत्री मिळतील?
७. दोन मुलांना प्रत्येकी दोन पपया दिल्या, तर किती पपया शिल्लक राहतील?
८. जर एका पेरूची किंमत तीन रुपये असेल, तर तीन पेरूंची किंमत किती असेल?



राज्य शैक्षणिक संशोधन
व प्रशिक्षण परिषद,
महाराष्ट्र, पुणे.

निपुण भारत अभियान



आकार म्हणतो ओळखा मी कोण?
वस्तूंमागील संख्या सांगणार कोण?

१	११	२१	३१	४१		६१	७१	८१	
२	१२		३२	४२	५२	६२	७२	८२	९२
	१३	२३	३३		५३	६३	७३	८३	९३
४	१४	२४	३४	४४	५४	६४	७४		९४
५	१५		३५		५५	६५	७५	८५	९५
६	१६	२६	३६	४६		६६		८६	९६
७	१७	२७		४७	५७	६७	७७	८७	९७
८		२८	३८		५८	६८	७८	८८	९८
९	१९		३९	४९	५९	६९	७९		९९
१०	२०	३०	४०	५०	६०		८०	९०	१००

२८ नंतरची लगतची संख्या कोणती?

२६ आधीची लगतची संख्या कोणती?

४२ व ४४ मधील संख्या कोणती?

६९ ते ७३ च्या दरम्यानच्या संख्या सांग.

/ / / या आकारांच्या वस्तू तक्त्यात किती वेळा आल्या आहेत?




राज्य शैक्षणिक संशोधन
व प्रशिक्षण परिषद,
महाराष्ट्र, पुणे.

निपुण भारत अभियान



सभोवताली पाहूया, आकृतिबंध शोधूया!



'STARS' प्रकल्प अंतर्गत

