



مہاراشٹر وڈیا پرا دھمیکرن، پونے 30
تعلیمی ترقی یافتہ مہاراشٹر

تعلیمی ترقی جانچ - مجموعی قدر پیمائی 2: 2017-18 - جماعت: پنجم - مضمون: ریاضی (تحریری)

طالب علم کا نام: حاضری نمبر

مدرسہ کا نام: فریق:

مرکز: تعلقہ ضلع تاریخ: 2018 / /

دستخط معلم	حاصل کردہ نمبرات			عملی/زبانی	تحریری					
	کل نمبرات	جماعت کی صلاحیت	بنیادی صلاحیت		5	4	3	2	1	
										سوال نمبر
										حاصل کردہ نمبرات
	50			10	8	8	8	8	8	مختص نمبرات

تمام سوالوں کو حل کیا جائے۔ ہر ضمنی سوال کے لیے ایک نمبر ہے۔

س 1 الف) ذیل کے عدد کو ہندسوں میں لکھو۔

آٹھ ہزار ایک سو بیالیس

ب) ذیل کے عدد کو الفاظ میں لکھو۔

2306

د) تفریق کرو۔

$$\begin{array}{r} 847 \\ - 333 \\ \hline \end{array}$$

ج) جمع کرو۔

$$\begin{array}{r} 715 \\ + 203 \\ \hline \end{array}$$

مجموعی قدر پیمائی 1: 2017-18 - جماعت: پنجم - مضمون: ریاضی: (1)

6) توسیعی صورت کی مدد سے عدد لکھو۔

$$5000 + 50 + 5 = \boxed{}$$

و) انیس کے پاس 151 روپے ہے جس میں سے اس نے 38 روپے اکبر کو دیے تو انیس کے پاس کتنے روپے باقی رہے؟

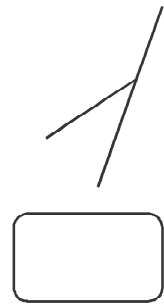
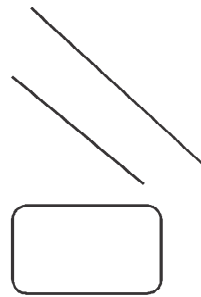
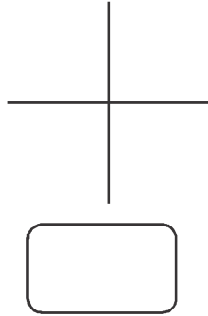
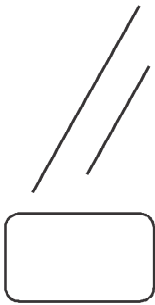
ح) تقسیم کرو۔

$$\begin{array}{r} 8 \overline{) 219} \end{array}$$

ز) ضرب کرو۔

$$\begin{array}{r} 85 \\ \times 6 \\ \hline \end{array}$$

س 2 الف) ایک دوسرے پر عمود ہونے والے خطوط کے نیچے چوکون میں ✓ نشان لگاؤ۔

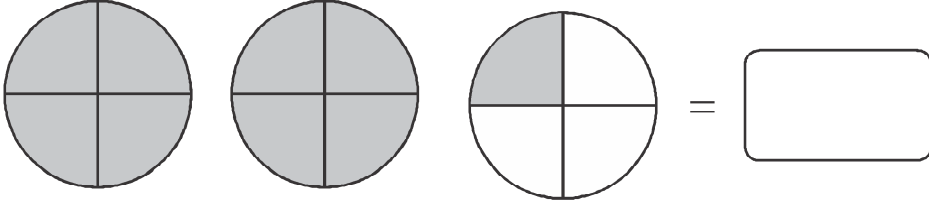


ب) ترتیب وار آنے والا بیچ کارومن عدد لکھو۔

XIII		XV
------	--	----

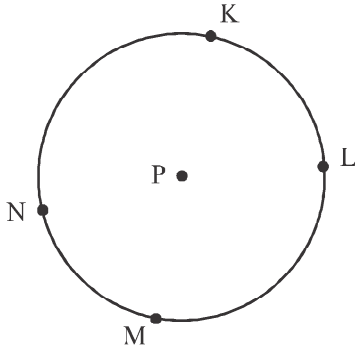
(ج) یوگائن کرنے کے لیے ایک قطار میں 105 لوگوں کو کھڑا کیا گیا تو ایسی 16 قطاروں میں کل کتنے لوگ ہوں گے؟

(د) رنگ بھرے ہوئے حصے کو مرکب کسر کی صورت میں لکھو۔



(ه) ایک انتخاب میں 17, 40, 212 مردوں نے اور 16, 38, 902 عورتوں نے ووٹ ڈالے تو کل کتنے ووٹ ڈالے گئے؟

(و) دائرہ کی شکل کے کوئی بھی ایک قوس کا نام لکھو۔



.....

(ز) چوکون میں $>$ ، $<$ ، $=$ ان میں سے مناسب علامت لکھو۔

7,89,950 7,87,905

(ح) 805 روپے میں 23 درجن کیلے ملتے ہیں تو ایک درجن کیلے کی قیمت کتنی ہوگی؟

س 3 الف) عدد 23.69 میں 9 کی مقامی قیمت لکھو۔

ب) 6 سم ضلع والے مربع کا رقبہ معلوم کرو۔

(ج) راجو کا اسکول صبح 7:30 بجے شروع ہوتا ہے اور 12:15 بجے اسکول کی چھٹی ہوتی ہے تو اس کا اسکول کتنے وقت جاری رہتا ہے؟

جمع کرو۔

(د)

$$59.77 + 43.83$$

سواں	دسواں	.	اکائی	دہائی

تفریق کرو۔

(ه)

$$73.64 - 31.31$$

سواں	دسواں	.	اکائی	دہائی

12 کے کوئی دو عدد لکھو۔

(و)

,

(ز) دیا ہوا بیان صحیح ہونے کے لیے الجبری عبارت کے چوکون میں مناسب عدد لکھو۔

$$6 \times 3 > 13 + \boxed{}$$

(ح) جمع کرو۔

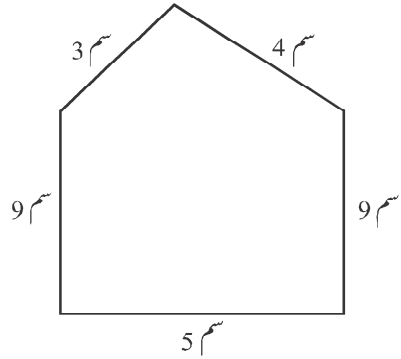
3 گھنٹے 25 منٹ + 2 گھنٹے 40 منٹ

منٹ	گھنٹے

(س ۴ الف) اعداد کا تواتر مکمل کرو۔

3	4	6	9	13	
---	---	---	---	----	--

(ب) احاطہ معلوم کرو۔



(ج) 9 سے تقسیم ہونے والے عدد کے گرد دائرہ بناؤ۔

3 6 18 12

(د) فرحان نے ڈھائی کلو پیڑے، پاؤ کلو برنی اور ڈیڑھ کلو جلیبی خریدی تو اس نے کُل کتنی مٹھائی خریدی؟

گرام کلو

(ه) سمیر روزانہ ایک مربع نما میدان کے گرد 10 چکر پیدل چل کر لگاتا ہے۔ میدان کے ہر ضلع کی لمبائی 80 میٹر ہے تو وہ روزانہ کتنا فاصلہ چلتا ہے؟

(و) 'کسی عدد کو 1 سے ضرب کیا جائے تو اس کا حاصل ضرب وہی عدد آتا ہے۔ اس خصوصیت کا استعمال کر کے 'b' حرف کو استعمال کر کے ریاضیاتی صورت میں لکھیے۔

(ز) گلاس اوپر سے کیسا نظر آتا ہے، اس کی تصویر بناؤ۔

چیز	سامنے سے نظر آنے والی تصویر	اوپر سے نظر آنے والی چیز کی تصویر
گلاس		

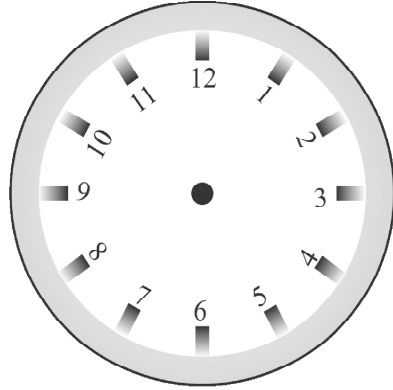
(ج) باہم مفرد عدد کی کوئی ایک جوڑی لکھیے۔

س ۵ الف) ساڑھے سولہ میٹر = میٹر سینٹی میٹر

(ب) 2.5 کے برابر قیمت نہ رکھنے والے متبادل کے گرد دائرہ بناؤ۔

- 1) 2.50 2) $2 \frac{5}{10}$ 3) $2 + \frac{5}{10}$ 4) $2 \times \frac{5}{10}$

(ج) گھڑی میں قبل نیم روز ساڑھے نو بجے ہیں، یہ دکھاؤ۔



(د) کسر کو عشری کسر کی صورت میں لکھو۔

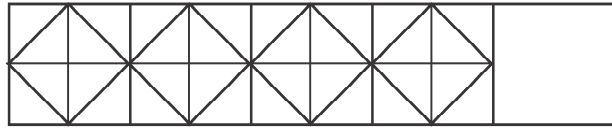
$$7 \frac{24}{10} = \boxed{}$$

6 ہندسی شکل کا نام لکھو۔



.....

7 تو اتر مکمل کرو۔



8 زاورج) بچوں کی پسندیدہ کتابیں درج ذیل جدول میں دی ہوئی ہے۔ 4 کتابوں کے لیے ایک تصویر یہ پیمانہ لے کر

معلوماتی تصویریں خاکہ مکمل کرو۔

کتاب کی قسم	کتابوں کی تعداد	تصویری شکل
پریوں کی کہانیاں	12	
تاریخی کہانیاں	
سائنس دانوں کی کہانیاں	8	

