

दुसरी - गणित (मराठी माध्यम)



महाराष्ट्र विद्या प्राधिकरण, पुणे ३०.

प्रगत शैक्षणिक महाराष्ट्र

शैक्षणिक प्रगती चाचणी : संकलित मूल्यमापन २ : २०१७-१८

इयत्ता : दुसरी - विषय : गणित (लेखी)

विद्यार्थ्यांचे नाव : _____ हजेरी क्रमांक :


शाळेचे नाव : _____ तुकडी : _____

केंद्र : _____ ता. _____ जि. _____ दिनांक : / / २०१८

प्रश्न क्रमांक	१	२	३	४	५	प्रात्य./तोंडी	प्राप्त गुण			शिक्षक स्वाक्षरी
							मूलभूत क्षमता	इयत्तेच्या क्षमता	एकूण	
प्राप्त गुण										
कमाल गुण	४	४	४	४	४	१०		३०		

सर्व प्रश्न सोडवावेत. प्रत्येक उपप्रश्नास एक गुण आहे.

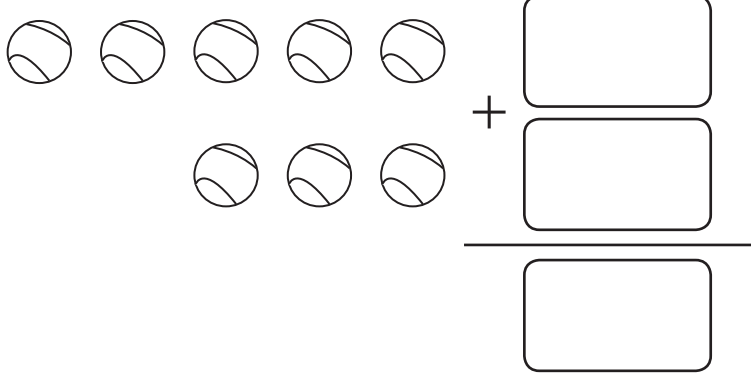
प्र. १ अ) चित्रे मोजून चौकटीत योग्य संख्या लिही.



ब) मधली संख्या लिही.


५		७
---	--	---

क) चित्रे पाहून बेरजेचे उदाहरण तयार करून सोडव.



ड) दिलेल्या संख्या क्रमाने लिही.

५ , २ , ४ , ३ , ६



प्र. २ अ) संख्या अक्षरात लिही.

१८ _____

ब) संख्या अंकात लिही.


तेवीस

क) लहान संख्येभोवती गोल कर.

४५ , ५४

ड) नको असलेला शब्द खोड.

सफरचंदापेक्षा आंब्यांची संख्या २ ने कमी/जास्त आहे.



प्र. ३ अ) बेरीज कर.

दशक	एकक
६	३
+	
१	२

ब) बेरीज कर.

दशक	एकक
४	७
+	
१	५

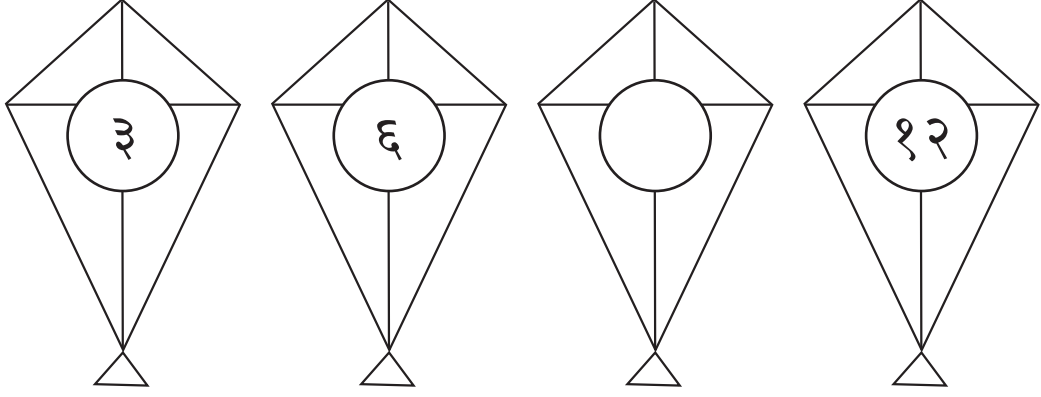
क) वजाबाकी कर.



दशक	एकक
७	४
-	
५	०

ड) वजाबाकी कर.

दशक	एकक
१	७
-	
	८



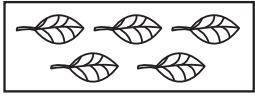
प्र. ४ अ) संख्यांचा आकृतिबंध पूर्ण कर.



ब)   = ४ × २


४ ४

याप्रमाणे खालील चौकटीत योग्य संख्या लिही.

   = ५ ×

५ ५ ५

क) चित्रातील त्रिकोणांची एकूण संख्या लिही.



त्रिकोणांची संख्या =

ड) पुढील आकृतिबंध पूर्ण कर.

○ ○	○○ ○○	○○○ ○○○	○○○○○ ○○○○○
--------	----------	------------	----------------

प्र. ५ अ) वस्तूच्या किमतीनुसार योग्य नोटा असलेल्या चौकटीत ✓ अशी खूण कर.



ब) खालील संख्या उतरत्या क्रमाने लिही.

२४ , ८३ , ३५

□ , □ , □

क) एका किल्ल्याला ६३ पायऱ्या आहेत. त्यापैकी उमा ३४ पायऱ्या चढली, तर आणखी किती पायऱ्या चढून ती किल्ल्यावर पोहोचेल?

दशक	एकक

ड) क्रिकेटच्या एका सामन्यात विराटने ५१ धावा केल्या आणि शिखरने १९ धावा केल्या तर दोघांनी मिळून एकूण किती धावा केल्या?

दशक	एकक

