

Class 3rd- Maths (Bengali Medium)



মহারাষ্ট্র রাজ্য শৈক্ষণিক সংশোধন ও প্রশিক্ষण परिषद, (विद्या प्राधिकरण) पूणे ३०
प्रगत शैक्षणिक महाराष्ट्र
शैक्षणिक प्रगती मूल्यायन : संकलीत मूल्यापन २ : २०१९-१८
तृतीय श्रेणी विषय : गणित

ছাত্রের নাম :- _____ রোল নং:-

বিদ্যালয়ের নাম :- _____ তারিখ :- / / ২০১৮

কেন্দ্র :- _____ তহসিল :- _____ জেলা :- _____

	লেখী					প্রা./মৌ.	মোট	শিক্ষক হস্তাক্ষর
প্রশ্ন ক্রমাঙ্ক	১	২	৩	৪	৫			
প্রাপ্ত মান								
পূর্ণ মান	৬	৬	৬	৬	৬	১০	৪০	

সকল প্রশ্ন সমাধান কর , প্রত্যেক উপপ্রশ্নের জন্য এক মান ।

প্রশ্ন ১-অ) অঙ্কে লেখ।

$$\text{বিরালী} = \boxed{}$$

ব) সংখ্যা অঙ্করে লেখ ।

$$২১ = \underline{\hspace{2cm}}$$

ক) বিস্তারিত রূপ পূর্ণ কর ।

$$২৫ = \boxed{} + ৫$$

সংকলিত মূল্যমাপন ২ : তৃতীয় শ্রেণী : গণিত (১)

ড) যোগ কর ।


দ	এ
+ ২	৫
১	৩

ই) বিয়োগ কর ।

দ	এ
- ৬	৭
১	৩

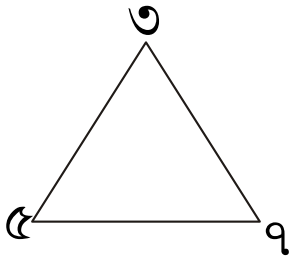
ফ) মেলায় যাওয়ার জন্য মা আমাকে ১৫ টি টাকা এবং বাবা ২০ টি টাকা দিয়েছে ।
এখন আমার কাছে মোট কত টাকা হয়েছে ।

প্রশ্ন ২ (অ) নীচের আকৃতিতে কয়টি ধার আছে তাহা গুনে লেখ ।



ধারের সংখ্যা =

ব) নীচে দেওয়া সংখ্যা সমূহ থেকে প্রত্যেক সংখ্যা এক বার ব্যবহার করে তিন
অংকের সবচেয়ে বড় সংখ্যা তৈরী করে লেখ ।



সংকলিত মূল্যায়ন ২ : তৃতীয় শ্রেণী : গণিত (২)

Summative Evaluation-2 2017-18 Class-3rd Sub-Math Bengali (2)

ক) দুধ মাপার প্রমাণিত একক কে গোল কর ।

মিটার লিটার গ্রাম মিনিট

ড) আমার কাছে মোট ১২৫ টাকা আছে তার মধ্যে ১০০ টাকার একটি নোট ও ৫ টাকার একটি মুদ্রা আছে । বাকি সব ১০ টাকার নোট । তাহলে আমার কাছে ১০ টাকার কয়টি নোট আছে ?

১০ টাকার

নোট

ই) যোগ কর ।

শ	দ	এ
৪	২	৩
+	৭	৫

ফ) গুন কর ।

$$\begin{array}{r} 6 \\ \times 8 \\ \hline \end{array}$$


প্রশ্ন: ৩ অ) সংখ্যার আকৃতিবন্ধ পূর্ণ কর ।

10×2	20×2	30×2	80×2	
---------------	---------------	---------------	---------------	--

সংকলিত মূল্যমাপন ২ : তৃতীয় শ্রেণী : গণিত (৩)

Summative Evaluation-2 2017-18 Class-3rd Sub-Math Bengali (3)

ব) নীচের আকৃতি সম্মিতি হওয়ার জন্য সঠিক জায়গায় দাগ দাও ।



ক) যোগ কর ।

শ	দ	এ
+ ৪	৬	৮
২	৫	৭

ড) বিয়োগ কর ।

শ	দ	এ
- ৭	১	৪
৩	৫	৮

ই) একটি বনিকরনে ৪৮৫ টি আমের চারা , ১৪০ টি লেবুর চারা ও ২৬০ টি তেঁতুলের চারা আছে । তাহলে বনিকরনে মোট কতগুলি চারা গাছ আছে ?

ফ) একটি পুস্তকালয়ে ৪৭৯ টি গল্পের বই এবং ৮৫ টি কবিতার বই আছে । তাহলে কবিতার বই অপেক্ষা গল্পের বই কত বেশী ?

প্রশ্ন : ৪ অ) ৩ দশক \times ২ দশক = শতক

ব) গুন কর ।

শ	দ	এ
	৪ \times	৬ ৭

ক) দিয়ার জন্ম ২৮ এপ্রিল ২০১০ এ হয়েছিল তবে সে ২০১৭ সালে কত তম জন্মদিন পালন করেছে ?

ড) ভাগ কর ।

$$\begin{array}{r} \overline{) 30} \\ 8 \end{array}$$


ই) নীচের দিনদর্শিকা (ক্যালেন্ডার) নিরীক্ষন কর এবং প্রশ্নের উত্তর লেখ ।

এপ্রিল ২০১৭						
রবি	সোম	মঙ্গল	বুধ	বৃহস্পতি	শুক্র	শনি
৩০						১
২	৩	৪	৫	৬	৭	৮
৯	১০	১১	১২	১৩	১৪	১৫
১৬	১৭	১৮	১৯	২০	২১	২২
২৩	২৪	২৫	২৬	২৭	২৮	২৯


মাসের প্রথম রবিবার কত তারিখ ?

ফ) ৮ টি লাডু রাখার জন্য ১ টি ডাক্ষা লাগে , তাহলে ৫৬ টি লাডু রাখার জন্য কয়টি ডাক্ষা লাগবে ?


প্রশ্ন:৫ অ) নীচের আকৃতিতে পোয়া ভাগ দেখাবার জন্য সমান কত ভাগে ভাগ করা লাগবে ?



ব) নিচের বস্তু সমূহের আধা ভাগ বস্তু রং কর ।



ক) ঘড়িতে কয়টা বেজে কত মিনিট হয়েছে তাহা লেখ ।

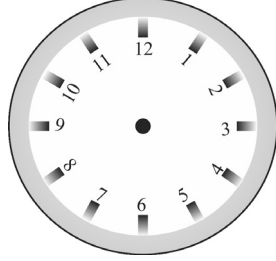


ঘড়িতে বেজে মিনিট হয়েছে ।

সংকলিত মূল্যমাপন ২ : তৃতীয় শ্রেণী : গণিত (৬)

Summative Evaluation-2 2017-18 Class-3rd Sub-Math Bengali (6)

ড) ঘড়িতে ৫ টা বেজে ২০ মিনিট হলে ,ঘন্টার কাটা ও মিনিটের কাটা কোথায় থাকবে ? তাহা নীচের ঘড়িতে দেখাও ।



‘ই এবং ফ’ এর জন্য সূচনা : ফুলের বাগানে ফুলগাছের জানকারী সংগ্রহ করার জন্য নীচে সারণী (তালিকা) দেওয়া হয়েছে । তার আধারে প্রশ্নের উত্তর চৌকটে লেখ ।

ফুলের নাম	ফুল গাছের সংখ্যা
চাঁপা	
গোলাপ	
মোগরা	

ই) গোলাপ ফুলগাছের সংখ্যা অপেক্ষায় চাঁপা ফুল গাছের সংখ্যা কত বেশী ?

ফ) ফুলের বাগানে মোট কতগুলি ফুলগাছ আছে ?

