

# Class Ist- Maths (Bengali Medium)



মহারাষ্ট্র রাজ্য শৈক্ষণিক সংশোধন ও প্রশিক্ষণ পরিষদ, ( বিদ্যা প্রাধিকরণ ) পূণে ৩০  
প্রগত শৈক্ষণিক মহারাষ্ট্র

শৈক্ষণিক প্রগতী মূল্যায়ন : সংকলিত মূল্যমাপন ২ : ২০১৭-১৮

প্রথম শ্রেণী বিষয় : গণিত

ছাত্রের নাম :- \_\_\_\_\_ রোল নং:-

বিদ্যালয়ের নাম :- \_\_\_\_\_ তারিখ :- / / ২০ ১৮

কেন্দ্র :- \_\_\_\_\_ তহসিল :- \_\_\_\_\_ জেলা :- \_\_\_\_\_

	লেখী					প্রা./মৌ.	মোট	শিক্ষক হস্তাক্ষর
প্রশ্ন ক্রমাঙ্ক	১	২	৩	৪	৫			
প্রাপ্ত মান								
পূর্ণ মান	৪	৪	৪	৪	৪	১০	৩০	

সকল প্রশ্ন সমাধান কর , প্রত্যেক উপপ্রশ্নের জন্য এক মান ।

প্রশ্ন ১-অ) দুইটি ছবি রং কর ।




ব) বড় সংখ্যাটিকে গোল কর ।

৩ ৭

ক) খালি জায়গায় সঠিক সংখ্যা লেখ ।

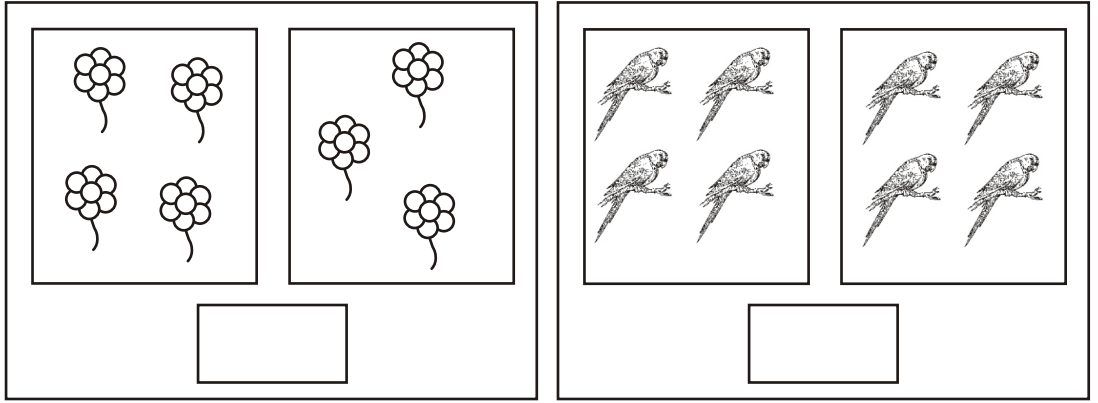
আগের সংখ্যা	মধ্যের সংখ্যা	পরের সংখ্যা
৮	৯	

ড) চিত্র গননা করে সঠিক সংখ্যায় গোল কর ।



৪      ৭      ৬      ৫

প্রশ্ন ২-অ) এক-এক জোড়া বানিয়ে সমান বস্তু সমূহের নীচে ✓ চিহ্ন দাও ।

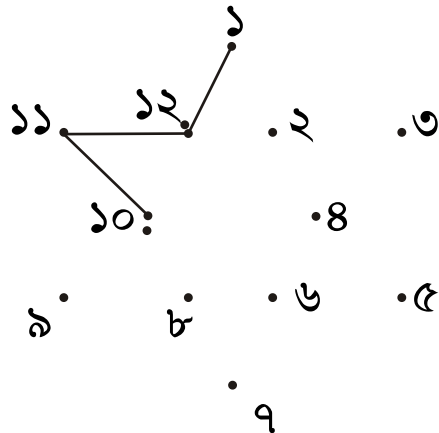


ব) যোগ কর ।

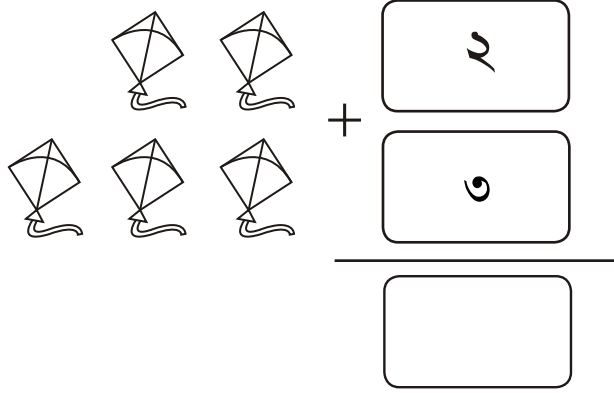
$$১ + ২ = \boxed{\phantom{00}}$$



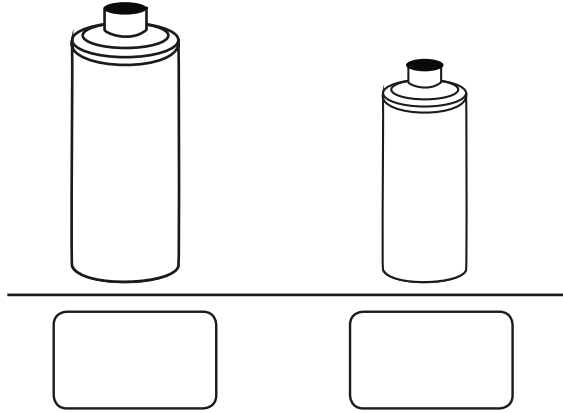
ক) সংখ্যা ক্রমানুসারে জুড়ে রংগোলীর অকৃতি পূর্ণ কর ।



ড) যোগ কর ।



প্রশ্ন ৩-অ) জলের বড় বোতলের নীচের ছকে ✓ চিহ্ন দাও ।




ব) দেওয়া সংখ্যাক্রমের আগের সংখ্যা লেখ ।

□	১৬	১৭
---	----	----

ক) ছোট সংখ্যাকে গোল কর ।

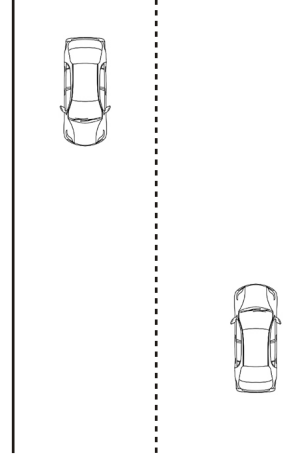
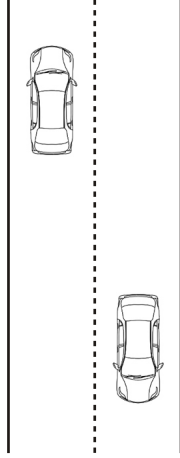
১৬      ১৩

ড) রশিতে ঝুলানো বেলুনগুলি গননা করে যোগ কর ।

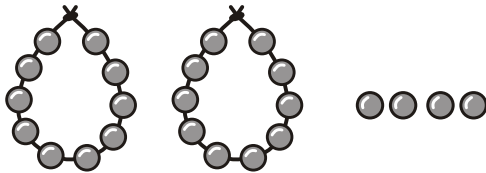


$$১২ + ৩ =$$

প্রশ্ন ৪-অ) সরু রাস্তার নীচের ছকে ✓ চিহ্ন দাও ।

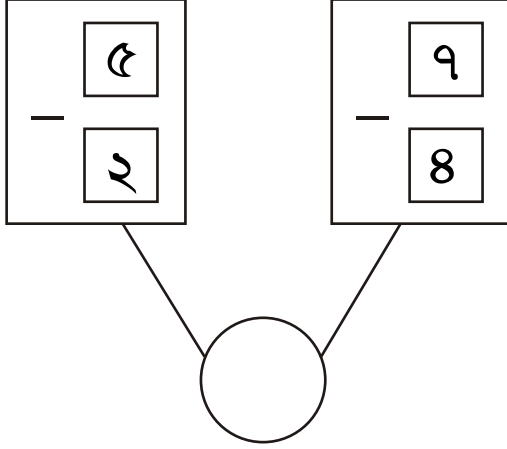


ব) দশক মালা ও খুচরো মণি গননা করে লেখ ।

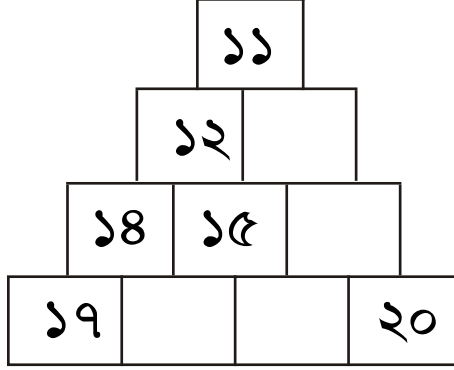


দশক	একক

ক) বিয়োগ করে গোলের মধ্যে সঠিক সংখ্যা লেখ ।



ড) সংখ্যা শিড়ীর খালি ছকে সঠিক সংখ্যা লেখ ।



প্রশ্ন ৫-অ) ছকের মধ্যে সঠিক সংখ্যা বসিয়ে বিয়োগ কর ।

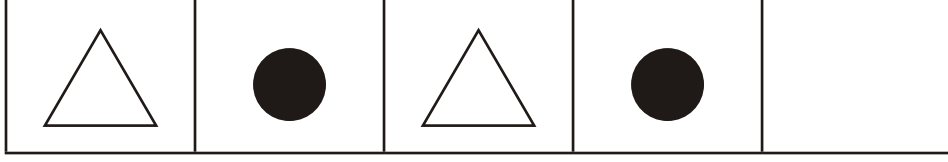
দিদির ডাকায় ছয়টি লাড্ডু ছিল

তাহা থেকে সে দুইটি লাড্ডু খেয়েছিল


দিদির ডাকায় মোট কয়টি লাড্ডু শেষ রইল

—	

ব) নীচের আকৃতিবন্ধ পূর্ণ কর ।



সূচনা : প্রশ্ন ক্রমাঙ্ক 'ক' এবং 'ড' এর জন্য নীচের ছকের মধ্যের ছবি গননা করে উত্তর লেখ ।



ক) উপরের ছকে কয়টি কাপ আছে ?



ড) উপরের ছকে কয়টি বল আছে ?

