

संच : अ

तिसरी - गणित (मराठी माध्यम)



महाराष्ट्र विद्या प्राधिकरण, पुणे ३०.

प्रगत शैक्षणिक महाराष्ट्र

शैक्षणिक प्रगती चाचणी

पायाभूत चाचणी २०१७-१८ : इयत्ता - तिसरी

विषय : गणित (लेखी)

विद्यार्थ्यांचे नाव : _____

शाळेचे नाव : _____ दिनांक : / / २०१७

केंद्र : _____ ता. _____ जि. _____ प्राप्त गुण :

हजेरी क्रमांक : तुकडी : _____ शिक्षकांची स्वाक्षरी _____ लेखी गुण :

प्रत्येक प्रश्नास एक गुण आहे. सर्व प्रश्न सोडवावेत.

प्र. १ अ) अठ्ठावीस ही संख्या अंकात लिही.

प्र. १ ब) संख्या अक्षरात लिही. २१ _____

प्र. १ क) संख्या चढत्या क्रमाने लिही.

३४ , २५ , ५३

<input type="text"/>	<input type="text"/>	<input type="text"/>
----------------------	----------------------	----------------------

पायाभूत चाचणी २०१७-१८ : इयत्ता - तिसरी : विषय - गणित : (१)

संच : अ

प्र. १ ड) लहान संख्येभोवती गोल कर.

३४ ४३


प्र. १ इ) टप्प्याने येणारी संख्या लिही.

४२ , ४४ , ४६ , , ५०

प्र. १ फ) संख्या दशक - एकक रूपात लिही.

संख्या	दशक	एकक
७८		

प्र. १ ग) दशक दांडे यांचे निरीक्षण करून चौकटीत योग्य संख्या लिही.

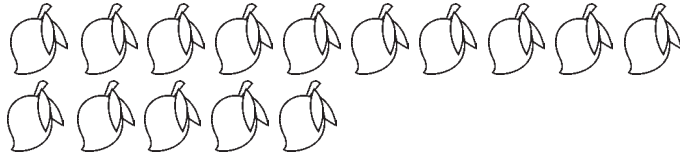



 = शतक

प्र. १ ह) चौकटीतील कोणतेही दोन अंक घेऊन दोन अंकी संख्या तयार कर.

पायाभूत चाचणी २०१७-१८ : इयत्ता - तिसरी : विषय - गणित : (२)

संच : अ

प्र. २ अ) चौकटीत फळांची संख्या लिहून बेरीज कर.

	→	<input type="text"/>
		+
	→	<input type="text"/>
		
		<hr/>
	एकूण फळांची संख्या	<input type="text"/>

प्र. २ ब) बेरीज कर.

	द	ए
	३	५
+	१	२

प्र. २ क) बेरीज कर.

	द	ए
	२	९
+	३	४

पायाभूत चाचणी २०१७-१८ : इयत्ता - तिसरी : विषय - गणित : (३)

संच : अ

प्र. २ ड) अनिताने ४२ चिंचेच्या बिया जमा केल्या व सोहेलने १५ सीताफळाच्या बिया जमा केल्या, तर दोघांनी मिळून एकूण किती बिया जमा केल्या?


दशक	एकक

← अनिताने जमा केलेल्या बिया

← सोहेलने जमा केलेल्या बिया

← एकूण जमा केलेल्या बिया

प्र. ३ अ) फुले पानांपेक्षा कितीने जास्त आहेत ते लिही.



प्र. ३ ब) वजाबाकी कर.

द	ए
२	७
—	४
१	

प्र. ३ क) वजाबाकी कर.

द	ए
४	५
—	६
२	

पायाभूत चाचणी २०१७-१८ : इयत्ता - तिसरी : विषय - गणित : (४)

संच : अ

प्र. ३ ड) गुरुनाथने ५९ रोपे आणली त्यापैकी शेतात २६ रोपे लावली तर किती रोपे लावायची बाकी आहेत?

दशक	एकक

← गुरुनाथने आणलेली रोपे


← शेतात लावलेली रोपे

← लावायची बाकी रोपे

प्र. ४ अ) बेरीज कर.

द	ए
५	७
+	०

प्र. ४ ब) चित्राचे निरीक्षण करून गुणाकार रूपात लिही.



← एका गटातील पक्ष्यांची संख्या

← एकूण गटांची संख्या

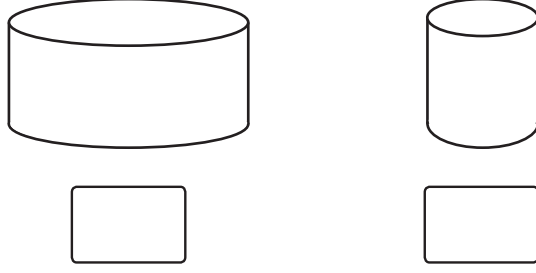
← सर्व गटातील पक्ष्यांची एकूण संख्या

प्र. ५ अ) टेबलची लांबी मोजण्यासाठी तू कशाचा वापर करशील? _____

पायाभूत चाचणी २०१७-१८ : इयत्ता - तिसरी : विषय - गणित : (५)

संच : अ

प्र. ५ ब) खालीलपैकी कोणत्या भांड्यात जास्त दूध मावेल त्याखाली '✓' अशी खूण कर.



प्र. ५ क) लगतचा आधीचा व लगतचा नंतरचा महिना लिही.

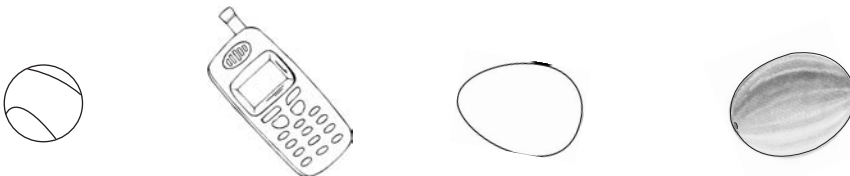


प्र. ५ ड) दुकानदाराला ₹ ६५ देण्यासाठी खालील नोटांमधून कोणत्या नोटा, किती द्याव्या लागतील ?



नोटा	संख्या
२०	
१०	
५	

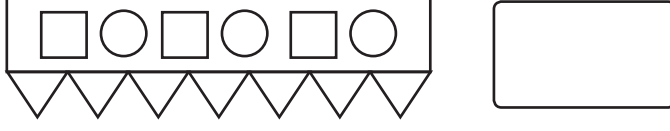
प्र. ६ अ) घसरणाऱ्या वस्तूंना गोल कर.



पायाभूत चाचणी २०१७-१८ : इयत्ता - तिसरी : विषय - गणित : (६)

संच : अ


प्र. ६ ब) आकृतीचे निरीक्षण करून त्रिकोणांची संख्या लिही.



प्र. ६ क) वक्र रेषेपासून तयार झालेल्या अक्षरांभोवती गोल कर.

A E C F

प्र. ६ ड) चित्राचे निरीक्षण कर व मोटारसायकल कोणाच्या मागे जात आहे ते लिही?



प्र. ७ अ) आकृतिबंध पूर्ण कर.

५	१०	१५	२०	
---	----	----	----	--

प्र. ७ ब) आकृतिबंध पूर्ण कर.



पायाभूत चाचणी २०१७-१८ : इयत्ता - तिसरी : विषय - गणित : (७)

संच : अ

प्र. ८ पुढील दिनदर्शिकेच्या आधारे प्रश्न क्र. अ व ब ची उत्तरे लिही.

एप्रिल २०१७						
रवि	सोम	मंगळ	बुध	गुरु	शुक्र	शनि
३०						१
२	३	४	५	६	७	८
९	१०	११	१२	१३	१४	१५
१६	१७	१८	१९	२०	२१	२२
२३	२४	२५	२६	२७	२८	२९

प्र. ८ अ) दिनदर्शिकेत दाखविलेला महिना एकूण किती दिवसांचा आहे?

प्र. ८ ब) एप्रिल २०१७ या महिन्यात एकूण किती सोमवार आले आहेत?

